

Multi Tasking Non Technical Staff and Havaldar CBIC and CBN Examination 2022

Roll Number	4602011011
Candidate Name	JOSEF KENDRUKA
Venue Name	iON Digital Zone iDZ Golanthra
Exam Date	13/06/2023
Exam Time	9:00 AM - 10:30 AM
Subject	MTS Non Tech Havaldar CBIC and CBN Examination 2022

Section : Numerical and Mathematical Ability

Q.1 ଏକ ନିର୍ଦ୍ଦିଷ୍ଟ ମୂଲ୍ୟର ଉପରେ 2 ବର୍ଷର ସମୂଳସ୍ଥୁୟ Rs. 33800 ଏବଂ 3 ବର୍ଷର ସମୂଳସ୍ଥୁୟ Rs. 43,940 ହୋଇଥାଏ ଯେଉଁଠି ଏହାକୁ ଚକ୍ରବୃତ୍ତି ସ୍ଥୁୟ ହାରରେ (ବାର୍ଷିକ ଭାବେ ଚକ୍ରବୃତ୍ତି ହେଉଥିବା) ଏକ ସିମ୍ପଲ ନିବେଶ କରାଯାଇଥାଏ । ଯଦି ସମାନ ସିମ୍ପଲ ଏହି ମୂଲ୍ୟରର ଦୁଇ ଗୁଣ ପରିମାଣକୁ 2 ବର୍ଷ ପାଇଁ ନିବେଶ କରାଯାଏ, ତେବେ 2 ବର୍ଷ ଶେଷରେ ଅର୍ଜିତ ସମୂଳସ୍ଥୁୟ ପରିମାଣ କେତେ ହେବ?

- Ans**
- ✓ 1. Rs. 67,600
 - ✗ 2. Rs. 62,480
 - ✗ 3. Rs. 71,240
 - ✗ 4. Rs. 60,420

Question Type : MCQ

Question ID : 264330140574

Option 1 ID : 264330550650

Option 2 ID : 264330550648

Option 3 ID : 264330550649

Option 4 ID : 264330550647

Status : **Not Attempted and Marked For Review**

Chosen Option : --

Q.2 ଏକ ନୂତନ ମିଶ୍ରଣରୁ ପାଇବା ପାଇଁ 135 kg ମିଶ୍ରଣରୁ A କୁ, 72 kg ମିଶ୍ରଣରୁ B ସହିତ ମିଶ୍ରିତ କରାଗଲା । ଯଦି ମିଶ୍ରଣରୁ A ରେ ଢିକ ଏବଂ ତମ୍ବାର ଅନୁପାତ 4: 5 ଏବଂ ମିଶ୍ରଣରୁ B ରେ ଢିକ ଏବଂ ତମ୍ବାର ଅନୁପାତ 7: 5 ହୋଇଥାଏ, ତେବେ ନୂତନ ମିଶ୍ରଣରୁ ଢିକର ଓଜନ କେତେ?

- Ans**
- ✗ 1. 115 kg
 - ✗ 2. 85 kg
 - ✗ 3. 92 kg
 - ✓ 4. 102 kg

Question Type : MCQ

Question ID : 264330140640

Option 1 ID : 264330550909

Option 2 ID : 264330550908

Option 3 ID : 264330550907

Option 4 ID : 264330550910

Status : **Marked For Review**

Chosen Option : 4

Q.3 ଚିନି-ଅଳା ସଂଖ୍ୟା ବିଶିଷ୍ଟ କେଉଁ କ୍ଷୁଦ୍ରତମ ସଂଖ୍ୟାରେ 5 ଦୁଇ କଲେ ତାହା ଭଉଁସ 2 ଏବଂ 3 ଦ୍ୱାରା ବିଭାଜିତ ହୋଇଥାଏ?

- Ans
- 1. 105
 - 2. 102
 - 3. 108
 - 4. 103

Question Type : MCQ

Question ID : 264330140598

Option 1 ID : 264330550744

Option 2 ID : 264330550746

Option 3 ID : 264330550745

Option 4 ID : 264330550743

Status : Answered

Chosen Option : 4

Q.4 ଲିରେ ପ୍ରତି Rs 50 ମୂଲ୍ୟର ଯାତାରେ କେଉଁ ଅନୁପାତରେ ପାଣି ମିଶାଇଲେ, ଲିରେ ପ୍ରତି Rs 35 ମୂଲ୍ୟର ମିଶ୍ରଣ ପ୍ରସ୍ତୁତ ହେବ? (ପାଣି ମାଗଣାରେ ଭପାଳକ)

- Ans
- 1. 7:5
 - 2. 3:5
 - 3. 3:7
 - 4. 2:7

Question Type : MCQ

Question ID : 264330133839

Option 1 ID : 264330524380

Option 2 ID : 264330524379

Option 3 ID : 264330524381

Option 4 ID : 264330524382

Status : Marked For Review

Chosen Option : 3

Q.5 $\frac{12 \times 4 \div 3 \text{ of } 16 + 24 - 5}{46 \div 23 \times 2}$ ର ମୂଲ୍ୟ କେତେ?

- Ans
- 1. 5
 - 2. 4
 - 3. 3
 - 4. 6

Question Type : MCQ

Question ID : 264330139947

Option 1 ID : 264330548170

Option 2 ID : 264330548167

Option 3 ID : 264330548168

Option 4 ID : 264330548169

Status : Answered

Chosen Option : 3

Q.6 ଜଣେ ଦୋକାନୀ 60 ପ୍ରତିଶତ ଯାକ ଧନି ଏକ ବସ୍ତୁ ବିକ୍ରି କରନ୍ତି । ଯଦି ସେ ଏହି ବସ୍ତୁକୁ Rs.150 ଅଧିକରେ ବିକ୍ରି କରିଥାନ୍ତେ । ତା'ହେଲେ ସେ 30 ପ୍ରତିଶତ ଯାକ ଧନି ହୋଇଥାନ୍ତେ । 20 ପ୍ରତିଶତ ଲାଭ ପାଇବା ପାଇଁ, ବସ୍ତୁର ବିକ୍ରୟ ମୂଲ୍ୟ କ'ଣ ହେବା ଉଚିତ୍?

- Ans**
- 1. Rs. 550
 - 2. Rs. 700
 - 3. Rs. 600
 - 4. Rs. 650

Question Type : **MCQ**
Question ID : **264330140638**
Option 1 ID : **264330550902**
Option 2 ID : **264330550901**
Option 3 ID : **264330550900**
Option 4 ID : **264330550899**
Status : **Answered**
Chosen Option : **3**

Q.7 $\sqrt{0.52 \times 0.52 + 0.31 \times 0.31 + 0.62 \times 0.52}$ ର ମୂଲ୍ୟ କେତେ?

- Ans**
- 1. 0.73
 - 2. 0.93
 - 3. 0.63
 - 4. 0.83

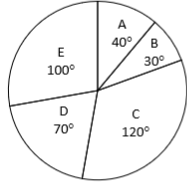
Question Type : **MCQ**
Question ID : **264330140550**
Option 1 ID : **264330550555**
Option 2 ID : **264330550556**
Option 3 ID : **264330550558**
Option 4 ID : **264330550557**
Status : **Not Attempted and Marked For Review**
Chosen Option : **--**

Q.8 ଗୋଟିଏ କଲମର ମୂଲ୍ୟ Rs. 5000 ଅଟେ । ଦୋକାନୀ ଗ୍ରାହକଙ୍କୁ 15 ପ୍ରତିଶତ ଏବଂ b ପ୍ରତିଶତର କ୍ରମାଗତ ଦୁଇଟି ଡିସ୍କାଣ୍ଟ ପ୍ରଦାନ କରନ୍ତି । ଯଦି ଗ୍ରାହକ କଲମ ପାଇଁ Rs. 4080 ପଇସା କରନ୍ତି, ତେବେ b ର ମୂଲ୍ୟ କେତେ?

- Ans**
- 1. 3 ପ୍ରତିଶତ
 - 2. 7.5 ପ୍ରତିଶତ
 - 3. 5 ପ୍ରତିଶତ
 - 4. 4 ପ୍ରତିଶତ

Question Type : **MCQ**
Question ID : **264330140251**
Option 1 ID : **264330549383**
Option 2 ID : **264330549386**
Option 3 ID : **264330549385**
Option 4 ID : **264330549384**
Status : **Answered**
Chosen Option : **3**

Q.9 ନିମ୍ନରେ ଦିଆଯାଇଥିବା ପାଇ-ଚାର୍ଟରେ ପାଞ୍ଚଟି ବିଶ୍ୱବିଦ୍ୟାଳୟରେ ଶିକ୍ଷକଙ୍କ ସଂଖ୍ୟା ଦର୍ଶାଯାଇଛି । ଏହି ସମସ୍ତ ପାଞ୍ଚଟି ବିଶ୍ୱବିଦ୍ୟାଳୟର ମୋଟ ଶିକ୍ଷକ ସଂଖ୍ୟା 720 ଅଟେ । ଏକ ନିର୍ଦ୍ଦିଷ୍ଟ ବିଶ୍ୱବିଦ୍ୟାଳୟରେ ଶିକ୍ଷକଙ୍କ ସଂଖ୍ୟାକୁ ସମସ୍ତ ପାଞ୍ଚଟି ବିଶ୍ୱବିଦ୍ୟାଳୟର ମୋଟ ଶିକ୍ଷକଙ୍କ ସଂଖ୍ୟା ସହଜରେ ଡିଗ୍ରୀ ରୂପେ ଦର୍ଶାଯାଇଛି ।



$J_1 = B \text{ ଓ } C$ ର ସାରାସାରି ଶିକ୍ଷକ ସଂଖ୍ୟା ।

$J_2 = A \text{ ଓ } E$ ର ସାରାସାରି ଶିକ୍ଷକ ସଂଖ୍ୟା ।

$(J_2 + J_1)$ ର ମୂଲ୍ୟ କେତେ?

- Ans**
- 1. 250
 - 2. 210
 - 3. 240
 - 4. 290

Question Type : MCQ

Question ID : 264330139930

Option 1 ID : 264330548099

Option 2 ID : 264330548102

Option 3 ID : 264330548101

Option 4 ID : 264330548100

Status : Not Attempted and Marked For Review

Chosen Option : --

Q.10 ଜଣେ କୃଷକର ଜମି ଏକ ଟ୍ରାପିଜିୟମ୍ ଆକାରରେ ଅଛି ଯାହାର ସମାନ୍ତରାଳ ପାର୍ଶ୍ୱ 7.58 ଯାର୍ଡ ଏବଂ 6.42 ଯାର୍ଡ ଏବଂ ସମାନ୍ତରାଳ ପାର୍ଶ୍ୱ ମଧ୍ୟରେ ଦୂରତା 6.50 ଯାର୍ଡ । ଜମିରେ ହଳ କରିବା ପାଇଁ ବର୍ଷ ଯାର୍ଡ ପିଛା ମୂଲ୍ୟ Rs. 2000 ଅଟେ । ସମଗ୍ର ଜମିକୁ ହଳ କରିବା ପାଇଁ କେତେ ପରିମାଣ ଖର୍ଚ୍ଚ କରିବାକୁ ପଡିବ?

- Ans**
- 1. Rs. 91000
 - 2. Rs. 72000
 - 3. Rs. 85000
 - 4. Rs. 102000

Question Type : MCQ

Question ID : 264330140227

Option 1 ID : 264330549289

Option 2 ID : 264330549288

Option 3 ID : 264330549290

Option 4 ID : 264330549287

Status : Not Attempted and Marked For Review

Chosen Option : --

Q.11 ଯଦି $X : Y = 2 : 3$ ଏବଂ $Y : Z = 6 : 7$, ତେବେ $(X + Z) : Y$ ର ମୂଲ୍ୟ କେତେ?

- Ans
- 1. 17 : 15
 - 2. 17 : 14
 - 3. 11 : 6
 - 4. 11 : 8

Question Type : MCQ

Question ID : 264330139596

Option 1 ID : 264330546802

Option 2 ID : 264330546799

Option 3 ID : 264330546801

Option 4 ID : 264330546800

Status : Not Attempted and Marked For Review

Chosen Option : --

Q.12 ଏକ ହାତ ଘଣ୍ଟାର କ୍ରୟମୂଲ୍ୟ Rs.750 ଅଟେ । ଯଦି କ୍ଷତି ପ୍ରତିଶତ 40 ପ୍ରତିଶତ ହୋଇଥାଏ, ତେବେ କ୍ଷତି ପରିମାଣ ନିର୍ଣ୍ଣୟ କର ।

- Ans
- 1. Rs. 220
 - 2. Rs. 280
 - 3. Rs. 300
 - 4. Rs. 420

Question Type : MCQ

Question ID : 264330139897

Option 1 ID : 264330547967

Option 2 ID : 264330547970

Option 3 ID : 264330547969

Option 4 ID : 264330547968

Status : Not Attempted and Marked For Review

Chosen Option : --

Q.13 ଗୋଟିଏ ଡଙ୍ଗା ଶୁଭ୍ର ଜଳରେ 15 km/hr ବେଗରେ ଯାତ୍ରା କରେ । ଯଦି ସ୍ରୋତର ବେଗ 5 km/hr ହୁଏ, ତେବେ ଡଙ୍ଗା ଦ୍ୱାରା ସ୍ରୋତର ଅନୁକୂଳରେ 80 km ଯାତ୍ରା କରିବାକୁ ଲାଗୁଥିବା ସମୟ ନିର୍ଣ୍ଣୟ କର ।

- Ans
- 1. 6 hr
 - 2. 3 hr
 - 3. 4 hr
 - 4. 5 hr

Question Type : MCQ

Question ID : 264330140812

Option 1 ID : 264330551598

Option 2 ID : 264330551595

Option 3 ID : 264330551596

Option 4 ID : 264330551597

Status : Not Attempted and Marked For Review

Chosen Option : --

Q.14 ଜଣେ ବ୍ୟକ୍ତି Rs.6000 ମୂଲ୍ୟର ଉପରେ 15 ବର୍ଷରେ ଅର୍ଜନ କରିଥିବା ସରଳ ସୁଧ ପରିମାଣ ମୂଲ୍ୟର 150 ପ୍ରତିଶତ ଅଟେ । ବାର୍ଷିକ ସୁଧ ହାର କେତେ?

- Ans**
- ✓ 1. 10 ପ୍ରତିଶତ
 - ✗ 2. 20 ପ୍ରତିଶତ
 - ✗ 3. 30 ପ୍ରତିଶତ
 - ✗ 4. 25 ପ୍ରତିଶତ

Question Type : **MCQ**

Question ID : **264330140621**

Option 1 ID : **264330550834**

Option 2 ID : **264330550833**

Option 3 ID : **264330550832**

Option 4 ID : **264330550831**

Status : **Not Attempted and Marked For Review**

Chosen Option : --

Q.15 ଗୋଟିଏ ସଂଖ୍ୟାରେ 30% ବୃଦ୍ଧି କରାଗଲା ଏବଂ ଏହାପରେ ବୃଦ୍ଧିପ୍ରାପ୍ତ ସଂଖ୍ୟାକୁ 30% ହ୍ରାସ କରାଗଲା । ନେଟ ବୃଦ୍ଧି କିମ୍ବା ହ୍ରାସ କେତେ?

- Ans**
- ✗ 1. 15% ହ୍ରାସ
 - ✗ 2. 30% ବୃଦ୍ଧି
 - ✓ 3. 9% ହ୍ରାସ
 - ✗ 4. 12% ବୃଦ୍ଧି

Question Type : **MCQ**

Question ID : **264330140826**

Option 1 ID : **264330551652**

Option 2 ID : **264330551651**

Option 3 ID : **264330551653**

Option 4 ID : **264330551654**

Status : **Not Attempted and Marked For Review**

Chosen Option : --

Q.16 L, P ଓ Q ଏକାଠି କାମ କରି ଗୋଟିଏ କାମକୁ ସମାପ୍ତ କରିଥିଲେ । L ଓ P ଏକାଠି କାମ କରି କାମର 50 ପ୍ରତିଶତ ଶେଷ କରିଥିବାବେଳେ P ଓ Q ଏକାଠି କାମ କରି କାମର 60 ପ୍ରତିଶତ ଶେଷ କରିଥିଲେ । ତିନି ଜଣଙ୍କ ମଧ୍ୟରେ ସର୍ବାଧିକ କାର୍ଯ୍ୟଦକ୍ଷ କିଏ?

- Ans**
- ✗ 1. L
 - ✗ 2. ସମସ୍ତଙ୍କ କାର୍ଯ୍ୟଦକ୍ଷତା ସମାନ ଅଟେ
 - ✗ 3. P
 - ✓ 4. Q

Question Type : **MCQ**

Question ID : **264330139017**

Option 1 ID : **264330544675**

Option 2 ID : **264330544678**

Option 3 ID : **264330544676**

Option 4 ID : **264330544677**

Status : **Marked For Review**

Chosen Option : **3**

Q.17 ନିମ୍ନରେ ଦିଆଯାଇଥିବା ସାରଣୀରେ 6 ବର୍ଷରେ ଗୋଟିଏ ବିଦ୍ୟାଳୟରେ ବାଳକ ଓ ବାଳିକାଙ୍କ ସଂଖ୍ୟା ଦର୍ଶାଯାଇଛି ।

ବର୍ଷ	ବାଳକ	ବାଳିକା
Y1	90	80
Y2	70	60
Y3	130	110
Y4	110	150
Y5	170	50
Y6	100	90

ନିମ୍ନଲିଖିତ ବିବୃତ୍ତି ମଧ୍ୟରୁ କେଉଁଟି ଠିକ୍ ନୁହେଁ?

I. Y6 ବର୍ଷରେ ବାଳିକାଙ୍କ ସଂଖ୍ୟା, Y6 ବର୍ଷରେ ବାଳକମାନଙ୍କ ସଂଖ୍ୟାର 9 ପ୍ରତିଶତ ଅଟେ ।

II. Y 1 ଏବଂ Y 2 ବର୍ଷରେ ବାଳକଙ୍କ ହାରାହାରି ସଂଖ୍ୟା 80 ଅଟେ ।

Ans

1. I କିମ୍ବା II ନୁହେଁ

2. କେବଳ I

3. ଉଭୟ I ଏବଂ II

4. କେବଳ II

Question Type : MCQ

Question ID : 264330139646

Option 1 ID : 264330547002

Option 2 ID : 264330546999

Option 3 ID : 264330547001

Option 4 ID : 264330547000

Status : Marked For Review

Chosen Option : 2

Q.18 ରୋହିତ ଏବଂ ମୋହିତ 4 ଦିନରେ ଗୋଟିଏ କାମ ଶେଷ କରିପାରନ୍ତି, ଯେତେବେଳେକି ରାମ ଏବଂ ଶ୍ୟାମ 12 ଦିନରେ ସମାନ କାମକୁ ଶେଷ କରିପାରନ୍ତି ।
ରୋହିତ, ମୋହିତ, ରାମ ଏବଂ ଶ୍ୟାମ ଏକାଠି କେତେ ଦିନରେ ଏହି କାମକୁ ଶେଷ କରିବେ?

Ans

1. 3 ଦିନ

2. 2 ଦିନ

3. 4 ଦିନ

4. 5 ଦିନ

Question Type : MCQ

Question ID : 264330140814

Option 1 ID : 264330551604

Option 2 ID : 264330551603

Option 3 ID : 264330551605

Option 4 ID : 264330551606

Status : Answered

Chosen Option : 2

Q.19 ଏକ ଗୋଲକର ବ୍ୟାସ 14.7 ମିଟର ଅଟେ । ଗୋଲକର ଆୟତନ କେତେ?

- Ans 1. $1663.893 m^3$
 2. $1783.723 m^3$
 3. $1873.487 m^3$
 4. $1693.563 m^3$

Question Type : MCQ

Question ID : 264330138454

Option 1 ID : 264330542426

Option 2 ID : 264330542423

Option 3 ID : 264330542425

Option 4 ID : 264330542424

Status : Marked For Review

Chosen Option : 4

Q.20 24 ଟି ପର୍ଯ୍ୟବେକ୍ଷଣର ହାରାହାରି 41 ଅଟେ । ପ୍ରଥମ 9ଟି ପର୍ଯ୍ୟବେକ୍ଷଣର ହାରାହାରି 42 ଅଟେ । ଶେଷ 16 ଟି ପର୍ଯ୍ୟବେକ୍ଷଣର ହାରାହାରି 39 ଅଟେ ।
ନବମ ପର୍ଯ୍ୟବେକ୍ଷଣର ମୂଲ୍ୟ କେତେ?

- Ans 1. 20
 2. 24
 3. 14
 4. 18

Question Type : MCQ

Question ID : 264330140587

Option 1 ID : 264330550699

Option 2 ID : 264330550701

Option 3 ID : 264330550700

Option 4 ID : 264330550702

Status : Answered

Chosen Option : 3

Section : Reasoning Ability and Problem Solving

Q.1 ଯଦି A 'ଯୋଗ' କୁ ସୂଚିତ କରେ, B 'ଗୁଣନ' କୁ ସୂଚିତ କରେ, C 'ବିଯୋଗ' କୁ ସୂଚିତ କରେ, ଏବଂ D 'ହରଣ' କୁ ସୂଚିତ କରେ, ତେବେ ନିମ୍ନଲିଖିତ
ସମୀକରଣର ମୂଲ୍ୟ କେତେ?
 $7 B \ 5 A \ 31 C \ (48 D \ 6) = ?$

- Ans 1. 58
 2. 38
 3. 62
 4. 46

Question Type : MCQ

Question ID : 264330140006

Option 1 ID : 264330548404

Option 2 ID : 264330548405

Option 3 ID : 264330548406

Option 4 ID : 264330548403

Status : Answered

Chosen Option : 4

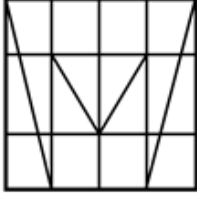
Q.2 ବିକଳରୁ ସେହି ଚିତ୍ରକୁ ଚୟନ କର ଯେଉଁଥିରେ ପ୍ରଦତ୍ତ ଚିତ୍ର (X) ଏହାର ଏକ ଅଂଶ ଭାବେ ସମ୍ମିଶ୍ରିତ ଅଛି । (ଘୂର୍ଣ୍ଣନ ପାଇଁ ଅନୁମତି ନାହିଁ)



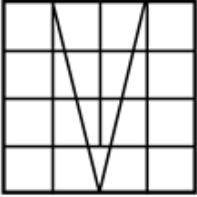
(X)

Ans

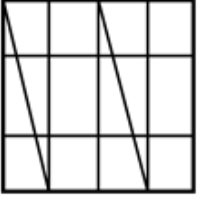
✓ 1.



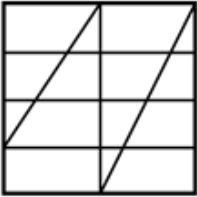
✗ 2.



✗ 3.



✗ 4.



Question Type : MCQ

Question ID : 264330140110

Option 1 ID : 264330548820

Option 2 ID : 264330548822

Option 3 ID : 264330548819

Option 4 ID : 264330548821

Status : Marked For Review

Chosen Option : 2

Q.3 ଏକ ନିର୍ଦ୍ଦିଷ୍ଟ କୋଡ ଭାଷାରେ, 'BECOME' କୁ 'HPRFHE' ଭାବରେ କୋଡ଼ବଦ୍ଧ କରାଯାଇଛି । ସେହି କୋଡ ଭାଷାରେ 'ACTIVE' ପାଇଁ କୋଡ କ'ଣ?

- Ans**
- 1. HYLWDD
 - 2. HYLWFC
 - 3. HYLVFD
 - 4. HYLWFD

Question Type : **MCQ**

Question ID : **264330139553**

Option 1 ID : **264330546628**

Option 2 ID : **264330546630**

Option 3 ID : **264330546629**

Option 4 ID : **264330546627**

Status : **Answered**

Chosen Option : **2**

Q.4 ଚିନୋଟି ବିଦ୍ୟୁତି ଏବଂ ଏହାପରେ । ଓ II ଚିହ୍ନିତ ଦୁଇଟି ନିଷର୍ଷ ଦିଆଯାଇଛି । ସାଧାରଣ ଜଣାଶୁଣା ତଥ୍ୟ ଠାରୁ ଭିନ୍ନ ପ୍ରତୀତ ହେଲେ ମଧ୍ୟ ଏହି ବିଦ୍ୟୁତି ଗୁଡ଼ିକୁ ସତ୍ୟ ବୋଲି ବିବେଚନା କରନ୍ତୁ ଏବଂ ପ୍ରଦତ୍ତ ବିଦ୍ୟୁତି ଗୁଡ଼ିକରୁ ଚର୍ଚ୍ଚିତ ଭାବରେ ଅନୁସୂଚି ନିଷର୍ଷଟି/ଗୁଡ଼ିକ ନିର୍ଣ୍ଣୟ କରନ୍ତୁ ।

ବିଦ୍ୟୁତି:

କିଛି ପିଣ୍ଡଟି ହେଉଛି ବିଦ୍ୟୁତି ।

କିଛି ବିଦ୍ୟୁତି ହେଉଛି ବିଲେଇ ।

ନିଷର୍ଷ:

I. କିଛି ପିଣ୍ଡଟି ହେଉଛି ବିଲେଇ ।

II. ସମସ୍ତ ବିଦ୍ୟୁତି କଦାପି ବିଲେଇ ହୋଇପାରିବେ ନାହିଁ ।

- Ans**
- 1. କେବଳ ନିଷର୍ଷ I ଅନୁସୂଚି ହେଉଛି ।
 - 2. ନିଷର୍ଷ I କିମ୍ବା II କୌଣସିଟି ଅନୁସୂଚି ହେଉ ନାହିଁ ।
 - 3. ଉଭୟ ନିଷର୍ଷ I ଓ II ଅନୁସୂଚି ହେଉଛି ।
 - 4. କେବଳ ନିଷର୍ଷ II ଅନୁସୂଚି ହେଉଛି ।

Question Type : **MCQ**

Question ID : **264330140103**

Option 1 ID : **264330548791**

Option 2 ID : **264330548794**

Option 3 ID : **264330548793**

Option 4 ID : **264330548792**

Status : **Answered**

Chosen Option : **3**

Q.5 ପ୍ରଦତ୍ତ ଅନୁକ୍ରମରେ ଥିବା ପ୍ରଶ୍ନଟିକୁ (?)କୁ ନିମ୍ନଲିଖିତ ସଂଖ୍ୟା ମଧ୍ୟରୁ କେଉଁଟି ପ୍ରତିସ୍ଥାପିତ କରିବ ?
48, 50, 53, 58, 65, 76, 89, ?

- Ans
- ✗ 1. 150
 - ✗ 2. 195
 - ✓ 3. 106
 - ✗ 4. 203

Question Type : MCQ

Question ID : 264330140145

Option 1 ID : 264330548961

Option 2 ID : 264330548962

Option 3 ID : 264330548959

Option 4 ID : 264330548960

Status : Not Attempted and
Marked For Review

Chosen Option : --

Q.6 ଦୁଇଟି ବିଦ୍ୟୁତ୍ ଏବଂ ଏହାପରେ । ଓ II ଚିହ୍ନିତ ଦୁଇଟି ନିଷର୍ଗ ଦିଆଯାଇଛି । ସାଧାରଣ ଜଣାଶୁଣା ତଥ୍ୟ ଠାରୁ ଭିନ୍ନ ପ୍ରକାର ହେଲେ ମଧ୍ୟ ଏହି ବିଦ୍ୟୁତ୍ ଗୁଡ଼ିକୁ ସତ୍ୟ ବୋଲି ବିବେଚନା କରନ୍ତୁ ଏବଂ ପ୍ରଦତ୍ତ ବିଦ୍ୟୁତ୍ ଗୁଡ଼ିକରୁ ଚର୍ଚ୍ଚିତ ଭାବରେ ଅନୁସୂତ ନିଷର୍ଗ/ଗୁଡ଼ିକ ନିର୍ଣ୍ଣୟ କରନ୍ତୁ ।

ବିଦ୍ୟୁତ୍:

କିଛି ଚା' ହେଉଛି କଫି ।

ସବୁ କଫି ହେଉଛି ମିଠା ।

ନିଷର୍ଗ :

I. ସବୁ ମିଠା ହେଉଛି କଫି ।

II. କିଛି ମିଠା ହେଉଛି ଚା' ।

- Ans
- ✗ 1. ନିଷର୍ଗ । କିମ୍ବା II କୌଣସିଟି ଅନୁସୂତ ହେଉନାହିଁ ।
 - ✗ 2. କେବଳ ନିଷର୍ଗ । ଅନୁସୂତ ହେଉଛି ।
 - ✓ 3. କେବଳ ନିଷର୍ଗ II ଅନୁସୂତ ହେଉଛି ।
 - ✗ 4. ଉଭୟ ନିଷର୍ଗ । ଓ II ଅନୁସୂତ ହେଉଛି ।

Question Type : MCQ

Question ID : 264330140461

Option 1 ID : 264330550226

Option 2 ID : 264330550223

Option 3 ID : 264330550224

Option 4 ID : 264330550225

Status : Answered

Chosen Option : 3

Q.7 ନିମ୍ନଲିଖିତ ସମୀକରଣକୁ ସଠିକ କରିବା ପାଇଁ ବିକଳରେ ପ୍ରଦତ୍ତ କେଉଁ ଦୁଇଟି ସଂଖ୍ୟାକୁ ପରସ୍ପର ମଧ୍ୟରେ ଅଦଳ ବଦଳ କରିବାକୁ ପଡିବ?

$$192 \div 12 \times 6 + 16 - 18 = 66$$

Ans 1. 16 ଓ 18

2. 6 ଓ 18

3. 16 ଓ 12

4. 16 ଓ 6

Question Type : MCQ

Question ID : 264330140448

Option 1 ID : 264330550172

Option 2 ID : 264330550174

Option 3 ID : 264330550173

Option 4 ID : 264330550171

Status : Marked For Review

Chosen Option : 3

Q.8 ଏକ ନିର୍ଦ୍ଦିଷ୍ଟ କୋଡ଼ାଂଶରେ, 'MANAGE' କୁ '629023' ଭାବରେ, 'NARAT' କୁ '52342' ଭାବରେ ଏବଂ 'TENM' କୁ '3695' ଭାବରେ କୋଡ଼ିତ କରାଯାଇଛି । ସେହି କୋଡ଼ାଂଶରେ 'R' ପାଇଁ କୋଡ଼ କଣ ହେବ?

Ans 1. 4

2. 3

3. 5

4. 2

Question Type : MCQ

Question ID : 264330140980

Option 1 ID : 264330552269

Option 2 ID : 264330552270

Option 3 ID : 264330552267

Option 4 ID : 264330552268

Status : Not Attempted and Marked For Review

Chosen Option : --

Q.9 ଦିଆଯାଇଥିବା ଅନୁକ୍ରମରେ ଗୋଟିଏ ପଦ ନିଖୋଜ ଅଛି । ପ୍ରଦତ୍ତ ବିକଳ ମଧ୍ୟରୁ ସଠିକ ପଦ ଚୟନ କରନ୍ତୁ ଯାହା ଅନୁକ୍ରମକୁ ସମ୍ପୂର୍ଣ୍ଣ କରିବ ।

GRAM, JUDP, MXGS, ?, SDMY

Ans 1. PAJV

2. PAKV

3. PBKV

4. PAJU

Question Type : MCQ

Question ID : 264330139548

Option 1 ID : 264330546609

Option 2 ID : 264330546610

Option 3 ID : 264330546607

Option 4 ID : 264330546608

Status : Not Attempted and Marked For Review

Chosen Option : --

Q.10 ସେହି ବିକଳ୍ପ ଚିତ୍ରର ଚୟନ କର ଯାହା ନିମ୍ନ ପ୍ରଦତ୍ତ ଚିତ୍ରରେ ଥିବା ପ୍ରଶ୍ନ ଚିହ୍ନ (?)କୁ ପ୍ରତିସ୍ଥାପିତ କରି ଶୈଳୀକୁ ସଂପୂର୍ଣ୍ଣ କରିବ । (ଗୁଣ୍ଠନ ପାଇଁ ଅନୁମତି ନାହିଁ)



Ans

✗ 1.



✓ 2.



✗ 3.



✗ 4.



Question Type : **MCQ**

Question ID : **264330140471**

Option 1 ID : **264330550263**

Option 2 ID : **264330550264**

Option 3 ID : **264330550266**

Option 4 ID : **264330550265**

Status : **Answered**

Chosen Option : **1**

Q.11 ସେହି ବିକଳକୁ ଚୟନ କରନ୍ତୁ, ଯେଉଁଥିରେ ସଂଖ୍ୟାଗୁଡ଼ିକ ମଧ୍ୟରେ ଥିବା ସମ୍ପର୍କ ପ୍ରଦର୍ଶନ ସେତେ ସଂଖ୍ୟାଗୁଡ଼ିକ ମଧ୍ୟରେ ଥିବା ସମ୍ପର୍କ ସହିତ ସମାନ ଅଟେ ।

(ଦ୍ରଷ୍ଟବ୍ୟ : ସଂଖ୍ୟାଗୁଡ଼ିକୁ ସେମାନଙ୍କ ଉପାଦାନ ଅଙ୍କ ଅନୁସାରେ ବିଭାଜିତ ନକରି ପୁରା ସଂଖ୍ୟା ଉପରେ ଗାଣିତିକ କ୍ରିୟାର ପ୍ରୟୋଗ କରାଯିବ । ଉଦାହରଣ ସ୍ୱରୂପ, ସଂଖ୍ୟା 13 ଉପରେ ଯୋଗ/ବିୟୋଗ/ ଗୁଣନ ଆଦି ଗାଣିତିକ କ୍ରିୟା ସମ୍ପାଦନ କରାଯାଇପାରିବ । 13 କୁ ଅଙ୍କ 1 ଏବଂ 3 ରେ ବିଭକ୍ତ କରିବା ଏବଂ ଏହାପରେ 1 ଏବଂ 3 ଉପରେ ଗାଣିତିକ କ୍ରିୟା ସମ୍ପାଦନ କରିବା ଗ୍ରହଣୀୟ ନୁହେଁ)

(4, 6, 72)

(5, 7, 105)

Ans ✓ 1. (6, 8, 144)

✗ 2. (3, 6, 36)

✗ 3. (6, 9, 108)

✗ 4. (2, 5, 40)

Question Type : **MCQ**

Question ID : **264330140486**

Option 1 ID : **264330550325**

Option 2 ID : **264330550323**

Option 3 ID : **264330550326**

Option 4 ID : **264330550324**

Status : **Not Attempted and Marked For Review**

Chosen Option : --

Q.12 ପ୍ରଥମ ଅକ୍ଷର ପୁଞ୍ଜ ସହିତ ଦ୍ୱିତୀୟ ଅକ୍ଷର ପୁଞ୍ଜ ଯେପରି ସମ୍ପର୍କିତ ସେହିଭଳି ତୃତୀୟ ଅକ୍ଷର ପୁଞ୍ଜ ସହିତ ସମ୍ପର୍କିତ ବିକଳକୁ ଚୟନ କରନ୍ତୁ ।

BAG : ACZBFH :: DOG : ?

Ans ✓ 1. CENPFH

✗ 2. CENPHF

✗ 3. CNEFHH

✗ 4. CNEPFH

Question Type : **MCQ**

Question ID : **264330140074**

Option 1 ID : **264330548677**

Option 2 ID : **264330548676**

Option 3 ID : **264330548675**

Option 4 ID : **264330548678**

Status : **Marked For Review**

Chosen Option : 1

Q.13 ଯଦି ନିମ୍ନରେ ଦର୍ଶାଯାଇଥିବା ପରି ଯଦି ଦର୍ପଣକୁ MN ଠାରେ ରଖାଯାଏ, ତେବେ ପ୍ରଦତ୍ତ ଚିତ୍ରର ସଠିକ ଦର୍ପଣ ପ୍ରତିବିମ୍ବ ଚୟନ କର ।

REPLACE M
N

Ans

- ✓ 1. E C A L P E R
- ✗ 2. B E B G V C E
- ✗ 3. E C A P L E R
- ✗ 4. B E G B V C E

Question Type : MCQ

Question ID : 264330140470

Option 1 ID : 264330550261

Option 2 ID : 264330550262

Option 3 ID : 264330550260

Option 4 ID : 264330550259

Status : Marked For Review

Chosen Option : 2

Q.14 ପ୍ରଥମ ପଦ ସହିତ ଦ୍ୱିତୀୟ ପଦର ଏବଂ ତୃତୀୟ ପଦ ସହିତ ଚତୁର୍ଥ ପଦର ସମ୍ପର୍କ ଭଳି ପଞ୍ଚମ ପଦ ସହିତ ସମ୍ବନ୍ଧିତ ଦ୍ୱିତୀୟ ପଦ ଚୟନ କରନ୍ତୁ ।

TRA : FNW :: MNG : LJP :: FOK : ?

Ans

- ✓ 1. PKI
- ✗ 2. PKJ
- ✗ 3. PLJ
- ✗ 4. PLI

Question Type : MCQ

Question ID : 264330140978

Option 1 ID : 264330552261

Option 2 ID : 264330552260

Option 3 ID : 264330552259

Option 4 ID : 264330552262

Status : Answered

Chosen Option : 1

Q.15 ପାଞ୍ଚ ଜଣ ବାଳିକା ବବିତା, ଲୀତା, ମିତା, ରୀତା ଏବଂ ଚିନା ଏକ ଖେଳ ଖେଳୁଛନ୍ତି। ସେମାନେ ଏକ ଧାଡ଼ିରେ ଭଜର ଆଡକୁ ମୁହଁ କରି ବସିଛନ୍ତି । ମିତା ପଶ୍ଚିମ ପ୍ରାନ୍ତରେ ଏବଂ ଚିନା ପୂର୍ବ ପ୍ରାନ୍ତରେ ବସିଛନ୍ତି । ଲୀତା ଏବଂ ରୀତା ପରସ୍ପରର ଠିକ ପାଖରେ ବସିଛନ୍ତି । ବବିତା, ଲୀତାଙ୍କ ଠିକ ବାମ ପାର୍ଶ୍ୱରେ ଏବଂ ମିତାଙ୍କ ଡାହାଣ ପାର୍ଶ୍ୱରେ ବସିଛନ୍ତି । ପୂର୍ବ ପ୍ରାନ୍ତରୁ ଦିଗାଘରେ କିଏ ବସିଛନ୍ତି?

- Ans**
- 1. ଲୀତା
 - 2. ବବିତା
 - 3. ରୀତା
 - 4. ଚିନା

Question Type : MCQ

Question ID : 264330140099

Option 1 ID : 264330548775

Option 2 ID : 264330548778

Option 3 ID : 264330548776

Option 4 ID : 264330548777

Status : Answered

Chosen Option : 2

Q.16 ନିମ୍ନଲିଖିତ ପ୍ରଶ୍ନରେ ପ୍ରଦତ୍ତ ଅନୁକ୍ରମର ନିଖୋଜ ସଂଖ୍ୟାକୁ ବିକଳ୍ପ ମଧ୍ୟରୁ ଚୟନ କରନ୍ତୁ ।

10, -18, -46, -74, -102, ?

- Ans**
- 1. -130
 - 2. -150
 - 3. -140
 - 4. -133

Question Type : MCQ

Question ID : 264330140967

Option 1 ID : 264330552215

Option 2 ID : 264330552218

Option 3 ID : 264330552216

Option 4 ID : 264330552217

Status : Answered

Chosen Option : 3

Q.17 ରାହୁଲ, ସାବିକ, ସୂର୍ଯ୍ୟ, ମୋହନ ଏବଂ କମଳଙ୍କ ଉଚ୍ଚତା ତୁଳନା କରାଯାଇଛି । ରାହୁଲଙ୍କ ଉଚ୍ଚତା କେବଳ ତିନି ଈଶଙ୍କଠାରୁ କମ ଅଟେ । ସୂର୍ଯ୍ୟଙ୍କ ଉଚ୍ଚତା, ରାହୁଲଙ୍କ ଉଚ୍ଚତାଠାରୁ ଅଧିକ କିମ୍ବା କମ ନୁହେଁ । କମଳଙ୍କ ଉଚ୍ଚତା, ମୋହନ ଠାରୁ ଅଧିକ କିନ୍ତୁ ସାବିକଙ୍କ ଠାରୁ କମ । କେତେ ଈଶଙ୍କର ଉଚ୍ଚତା, ସୂର୍ଯ୍ୟଙ୍କଠାରୁ ଅଧିକ କିନ୍ତୁ ସାବିକଙ୍କଠାରୁ କମ?

- Ans**
- 1. 0
 - 2. 2
 - 3. 3
 - 4. 1

Question Type : **MCQ**
Question ID : **264330139556**
Option 1 ID : **264330546641**
Option 2 ID : **264330546642**
Option 3 ID : **264330546639**
Option 4 ID : **264330546640**
Status : **Answered**
Chosen Option : **2**

Q.18 ପ୍ରଥମ ସଂଖ୍ୟା ସହିତ ଦ୍ୱିତୀୟ ସଂଖ୍ୟା ଯେପରି ସମ୍ପର୍କିତ, ସେହି ଅନୁସାରେ ତୃତୀୟ ସଂଖ୍ୟା ସହିତ ସମ୍ପର୍କିତ ବିକଳକୁ ଚୟନ କରନ୍ତୁ ।

529 : 577 :: 841 : ?

- Ans**
- 1. 902
 - 2. 911
 - 3. 901
 - 4. 899

Question Type : **MCQ**
Question ID : **264330140465**
Option 1 ID : **264330550242**
Option 2 ID : **264330550241**
Option 3 ID : **264330550240**
Option 4 ID : **264330550239**
Status : **Answered**
Chosen Option : **2**

Q.19 ଆଠ ଜଣ ବାକଳ ରାମ, ସୁମିତ, ସୁନୀଲ, ରାହୁଲ, ରାଜ, ଅମାନ, ଅମିତ ଏବଂ ଅନିଲ ଏକ ବୃତ୍ତାକାର ଟେବୁଲ ଚାରିପଟେ କେନ୍ଦ୍ରର ବିପରୀତ ଦିଗକୁ ମୁହଁ କରି ବସିଛନ୍ତି (ଆବଶ୍ୟକ ନୁହେଁ ସମାନ କ୍ରମରେ) । ରାମଙ୍କ ଠିକ ବାମକୁ ସୁନୀଲ ବସିଛନ୍ତି । ରାହୁଲଙ୍କ ବାମକୁ ଚତୁର୍ଥ ସ୍ଥାନରେ ରାମ ବସିଛନ୍ତି । ରାଜଙ୍କ ଡାହାଣକୁ ଚତୁର୍ଥ ସ୍ଥାନରେ ଅମିତ ବସିଛନ୍ତି । ରାମଙ୍କ ଡାହାଣକୁ ଦ୍ୱିତୀୟ ସ୍ଥାନରେ ରାଜ ବସିଛନ୍ତି । ସୁମିତଙ୍କ ବାମକୁ ଦ୍ୱିତୀୟ ସ୍ଥାନରେ ଅନିଲ ବସିଛନ୍ତି । ସୁମିତଙ୍କ ଡାହାଣକୁ ଦ୍ୱିତୀୟ ସ୍ଥାନରେ ଅମନ ବସିଛନ୍ତି । ସୁନୀଲଙ୍କ ଡାହାଣକୁ ଦ୍ୱିତୀୟ ସ୍ଥାନରେ କିଏ ବସିଛନ୍ତି?

- Ans**
- 1. ଅନିଲ
 - 2. ରାଜ
 - 3. ଅମାନ
 - 4. ରାହୁଲ

Question Type : **MCQ**
Question ID : **264330140060**
Option 1 ID : **264330548619**
Option 2 ID : **264330548622**
Option 3 ID : **264330548620**
Option 4 ID : **264330548621**
Status : **Answered**
Chosen Option : **2**

Q.20 ଏକ ନିର୍ଦ୍ଦିଷ୍ଟ କୋଡ୍ ଭାଷାରେ 'XIWG' କୁ HXJY' ଭାବରେ ଲେଖାଯାଇଛି। ସେହି ଭାଷାରେ 'MSOE' କୁ କିପରି ଲେଖାଯିବ?

- Ans
- 1. FPTT
 - 2. FTPN
 - 3. FPTN
 - 4. FNTP

Question Type : MCQ

Question ID : 264330140136

Option 1 ID : 264330548926

Option 2 ID : 264330548923

Option 3 ID : 264330548925

Option 4 ID : 264330548924

Status : Answered

Chosen Option : 2

Section : General Awareness

Q.1 'ବରାକର' ନଦୀ ନିମ୍ନଲିଖିତ କେଉଁ ନଦୀର ଉପନଦୀ ଅଟେ?

- Ans
- 1. ଦାମୋଦର
 - 2. କୃଷ୍ଣା
 - 3. ରାବି
 - 4. କାବେରୀ

Question Type : MCQ

Question ID : 264330140352

Option 1 ID : 264330549787

Option 2 ID : 264330549789

Option 3 ID : 264330549788

Option 4 ID : 264330549790

Status : Answered

Chosen Option : 1

Q.2 କେଉଁଟି ସୌର ପ୍ରଣାଳୀର ସବୁଠାରୁ ବଡ଼ ଗ୍ରହ ଅଟେ?

- Ans
- 1. ନେପଚ୍ୟୁନ
 - 2. ବୃହସ୍ପତି
 - 3. ପୃଥିବୀ
 - 4. ୟୁରାନସ

Question Type : MCQ
Question ID : 264330139738
Option 1 ID : 264330547370
Option 2 ID : 264330547368
Option 3 ID : 264330547367
Option 4 ID : 264330547369
Status : Answered
Chosen Option : 2

Q.3 ସମ୍ବିଧାନ (ଅନୁସୂଚିତ ଜାତି ଏବଂ ଅନୁସୂଚିତ ଜନଜାତି) ଅର୍ଡର ବିଲ୍ 2022 ଭାରତର _____ ରାଜ୍ୟରେ ଆଗତ ହୋଇଥିଲା ।

- Ans
- 1. କେରଳ
 - 2. ରାଜସ୍ଥାନ
 - 3. ଝାଡ଼ଖଣ୍ଡ
 - 4. ପଞ୍ଜାବ

Question Type : MCQ
Question ID : 264330140726
Option 1 ID : 264330551252
Option 2 ID : 264330551253
Option 3 ID : 264330551254
Option 4 ID : 264330551251
Status : Answered
Chosen Option : 1

Q.4 ନିମ୍ନଲିଖିତ ଭାରତୀୟ ଅଲିମ୍ପିଆନ୍ ମାନଙ୍କ ମଧ୍ୟରୁ କିଏ କୁସ୍ତି ଖେଳ ସହିତ ଜଡ଼ିତ?

- Ans
- 1. ଅଭିନବ ବିନ୍ଦ୍ରା
 - 2. ଅବିଡି ଅଶୋକ
 - 3. ସାକ୍ଷୀ ମଲିକ
 - 4. ନୀରଜ ଚୋପ୍ରା

Question Type : MCQ
Question ID : 264330140929
Option 1 ID : 264330552063
Option 2 ID : 264330552065
Option 3 ID : 264330552066
Option 4 ID : 264330552064
Status : Marked For Review
Chosen Option : 3

Q.5 ନିମ୍ନଲିଖିତ ମଧ୍ୟରୁ କେଉଁଟିକୁ 'କାଗଜ କର' ବୋଲି କୁହାଯାଏ?

I. ଧନ କର

II. ଉପହାର କର

Ans ✓ 1. ଉଭୟ I ଏବଂ II

✗ 2. କିମ୍ବା II କୌଣସି ଟି ନୁହେଁ ।

✗ 3. କେବଳ II

✗ 4. କେବଳ I

Question Type : MCQ

Question ID : 264330139876

Option 1 ID : 264330547885

Option 2 ID : 264330547886

Option 3 ID : 264330547884

Option 4 ID : 264330547883

Status : Answered

Chosen Option : 2

Q.6 ପତ୍ର ମୃତ୍ତିକାର ରଙ୍ଗ _____ ହୋଇଥାଏ ।

Ans ✓ 1. ହାଲୁକା ଧୂସର ରୁ ପାଉଁଶିଆ ଧୂସର

✗ 2. କମଳା ରୁ ଲାଲ

✗ 3. ଫିକା ଧଳା ରୁ ଉଷତ ହଳଦିଆ ଧଳା

✗ 4. ହାଲୁକା କମଳା ରୁ ଗାଢ଼ କମଳା

Question Type : MCQ

Question ID : 264330140351

Option 1 ID : 264330549784

Option 2 ID : 264330549783

Option 3 ID : 264330549786

Option 4 ID : 264330549785

Status : Answered

Chosen Option : 2

Q.7 ଚନନ ବା ସଂପାତନ ପ୍ରତିବଳ (Tensile or compressive stress) ରୁ _____ ବୋଲି ମଧ୍ୟ କୁହାଯାଇପାରେ ।

- Ans
- 1. ଅପରୂପଣ ପ୍ରତିବଳ (shearing stress)
 - 2. ହାଇଡ୍ରୋଲିକ ପ୍ରତିବଳ (hydraulic stress)
 - 3. ସ୍ୱର୍ଣ୍ଣକାୟ ପ୍ରତିବଳ (tangential stress)
 - 4. ଅନୁଦୈର୍ଘ୍ୟ ପ୍ରତିବଳ (longitudinal stress)

Question Type : MCQ
Question ID : 264330140322
Option 1 ID : 264330549667
Option 2 ID : 264330549670
Option 3 ID : 264330549669
Option 4 ID : 264330549668
Status : Marked For Review
Chosen Option : 3

Q.8 ପାଠ୍ୟ ନୂତ୍ୟଶୈଳୀ ଭାରତର _____ ରାଜ୍ୟ ସହିତ ଜଡ଼ିତ ।

- Ans
- 1. କେରଳ
 - 2. ପଞ୍ଜାବ
 - 3. ମହାରାଷ୍ଟ୍ର
 - 4. ଛତିଶଗଡ଼

Question Type : MCQ
Question ID : 264330140728
Option 1 ID : 264330551260
Option 2 ID : 264330551259
Option 3 ID : 264330551262
Option 4 ID : 264330551261
Status : Answered
Chosen Option : 1

Q.9 ବୁଦ୍ଧ ଏକ କ୍ଷୁଦ୍ର ଗଣର ଅଂଶଭୁକ୍ତ ଥିଲେ ଯାହାର ନାମ _____ ଥିଲା ।

- Ans
- 1. ଅବନ୍ତୀ ଗଣ
 - 2. କୁରୁ ଗଣ
 - 3. ଶାକ୍ୟ ଗଣ
 - 4. ପାଞ୍ଚାଳ ଗଣ

Question Type : MCQ
Question ID : 264330140902
Option 1 ID : 264330551957
Option 2 ID : 264330551955
Option 3 ID : 264330551956
Option 4 ID : 264330551958
Status : Marked For Review
Chosen Option : 2

Q.10 ଜୟନ୍ତୀ କୁମାରେଶ _____ ର ସର୍ବଶ୍ରେଷ୍ଠ ପ୍ରବର୍ତ୍ତକଙ୍କ ମଧ୍ୟରୁ ଅନ୍ୟତମ ।

- Ans
- 1. ଦୀଶା
 - 2. ତବଲା
 - 3. ସତ୍ତୁର
 - 4. ସୀତାର

Question Type : MCQ
Question ID : 264330140273
Option 1 ID : 264330549473
Option 2 ID : 264330549471
Option 3 ID : 264330549474
Option 4 ID : 264330549472
Status : Answered
Chosen Option : 2

Q.11 ପଞ୍ଜାବର ପ୍ରସିଦ୍ଧ ଶିଶୁ ମହଲ ନିମ୍ନଲିଖିତ କେଉଁ ଶାସକମାନଙ୍କ ଦ୍ଵାରା ନିର୍ମିତ ହୋଇଥିଲା?

- Ans
- 1. ମହାରାଜା ନରିନ୍ଦର ସିଂ
 - 2. ରାଣା କୁମ୍ଭ
 - 3. ମହାରାଜା ସାଞ୍ଜାଇ ପ୍ରତାପ ସିଂ
 - 4. ରାଜା ମାନ ସିଂ – ପ୍ରଥମ

Question Type : MCQ
Question ID : 264330140935
Option 1 ID : 264330552088
Option 2 ID : 264330552090
Option 3 ID : 264330552087
Option 4 ID : 264330552089
Status : Answered
Chosen Option : 3

Q.12 ଉପନ୍ୟାସ "ଲାଜପ୍ ଅଫ୍ ପାଇ" କିଏ ଲେଖିଥିଲେ?

- Ans
- 1. ଖାଲିଦ ହୋସେଇନି
 - 2. ଯାନ ମାର୍ଟେଲ
 - 3. କାରୋଲ ବିର୍ଚ
 - 4. ଜୋନାଥନ ସାମ୍ରାନ ଫୋଏର

Question Type : MCQ
Question ID : 264330140668
Option 1 ID : 264330551022
Option 2 ID : 264330551019
Option 3 ID : 264330551020
Option 4 ID : 264330551021
Status : Answered
Chosen Option : 4

Q.13 ସଙ୍ଗମ କବିତାରେ ଏକ ତାମିଲ ଶବ୍ଦ 'ମୁଭେନ୍ଦର' (Muvendar) ଉଲ୍ଲେଖ ଅଛି ଯାହାର ଅର୍ଥ _____ ।

- Ans 1. ତିନିଜଣ ମୁଖ୍ୟ
 2. ତିନୋଟି କର
 3. ତିନୋଟି ବନ୍ଦର
 4. ତିନୋଟି ଘୋଡ଼ା

Question Type : MCQ
Question ID : 264330140288
Option 1 ID : 264330549532
Option 2 ID : 264330549534
Option 3 ID : 264330549531
Option 4 ID : 264330549533
Status : Answered
Chosen Option : 2

Q.14 ଲାହୋର ଠାରେ ଶିବ ନାରାୟଣ ଅଗ୍ନିହୋତ୍ରୀଙ୍କ ଦ୍ଵାରା ଦେବ ସମାଜ କେଉଁ ମସିହାରେ ପ୍ରତିଷ୍ଠିତ ହୋଇଥିଲା?

- Ans 1. 1892
 2. 1887
 3. 1876
 4. 1863

Question Type : MCQ
Question ID : 264330140358
Option 1 ID : 264330549814
Option 2 ID : 264330549813
Option 3 ID : 264330549812
Option 4 ID : 264330549811
Status : Marked For Review
Chosen Option : 2

Q.15 କେଉଁ କ୍ରୀଡ଼ାରେ 'ଶାଟଲକକ୍' ଆବଶ୍ୟକ ହୋଇଥାଏ?

- Ans 1. ବିଲିୟାର୍ଡସ
 2. ବେସବଲ
 3. ବାସ୍କେଟବଲ
 4. ବ୍ୟାଡମିଣ୍ଟନ

Question Type : MCQ
Question ID : 264330140364
Option 1 ID : 264330549838
Option 2 ID : 264330549837
Option 3 ID : 264330549836
Option 4 ID : 264330549835
Status : Answered
Chosen Option : 2

Q.16 କେଉଁ ଶ୍ରେଣୀର ଶୈବାଳ ଗୁଡ଼ିକ ସାଧାରଣତଃ ବାଦାମୀ ଶୈବାଳ (brown algae) ଭାବରେ ଜଣାଶୁଣା?

- Ans
- ✓ 1. ଫାଇଓଫିସିଆ (Phaeophyceae)
 - ✗ 2. କ୍ଲୋରୋଫିସିଆ (Chlorophyceae)
 - ✗ 3. କ୍ରାଇସୋଫିସିଆ (Chrysophyceae)
 - ✗ 4. ରୋଡୋଫାଇସିଆ (Rhodophyceae)

Question Type : MCQ
Question ID : 264330140732
Option 1 ID : 264330551276
Option 2 ID : 264330551275
Option 3 ID : 264330551277
Option 4 ID : 264330551278
Status : Answered
Chosen Option : 3

Q.17 ଜାନୁଆରୀ 2022 ରେ, ଏସ. ସୋମନାଥକୁ _____ ର ଦଶମ ଅଧ୍ୟକ୍ଷ (Chairman) ଭାବେ ନିଯୁକ୍ତି କରାଯାଇଛି ।

- Ans
- ✗ 1. ଡିଆରଡିଓ (DRDO)
 - ✓ 2. ଇସରୋ (ISRO)
 - ✗ 3. ଆରବିଆଇ (RBI)
 - ✗ 4. ସେବି (SEBI)

Question Type : MCQ
Question ID : 264330139681
Option 1 ID : 264330547140
Option 2 ID : 264330547141
Option 3 ID : 264330547139
Option 4 ID : 264330547142
Status : Answered
Chosen Option : 2

Q.18 ଭାରତୀୟ ସମ୍ବିଧାନର ଅନୁଚ୍ଛେଦ _____ ରେ ନିର୍ବାଚନ ଆୟୋଗରେ ଦିଆଯାଇଥିବା ନିର୍ବାଚନର ଅଧ୍ୟକ୍ଷତା, ନିର୍ଦ୍ଦେଶ ଏବଂ ନିୟନ୍ତ୍ରଣ ପାଇଁ ପ୍ରାଧିକାର ରହିଛି ।

- Ans
- ✗ 1. 336
 - ✗ 2. 330
 - ✗ 3. 338
 - ✓ 4. 324

Question Type : MCQ
Question ID : 264330140278
Option 1 ID : 264330549493
Option 2 ID : 264330549492
Option 3 ID : 264330549494
Option 4 ID : 264330549491
Status : Answered
Chosen Option : 2

Q.19 2011 ଜନଗଣନା ଅନୁଯାୟୀ, ପୁରୁଷ ସାକ୍ଷରତା ହାର କେତେ?

- Ans
- 1. 75.14%
 - 2. 71.14%
 - 3. 82.14%
 - 4. 65.14%

Question Type : MCQ
Question ID : 264330140303
Option 1 ID : 264330549592
Option 2 ID : 264330549593
Option 3 ID : 264330549591
Option 4 ID : 264330549594
Status : Marked For Review
Chosen Option : 2

Q.20 କିଛି ନିର୍ଦ୍ଦିଷ୍ଟ ଅଞ୍ଚଳରେ କୃଷକମାନେ କେବଳ ପରିପରିବା ଚାଷରେ ବିଶେଷତା ଅର୍ଜନ କରିଥାନ୍ତି । ଏହି ପ୍ରକାର ଚାଷ _____ ଭାବରେ ଜଣାଶୁଣା ଅଟେ ।

- Ans
- 1. ପଶୁ ପାଳନ
 - 2. ଦୁଗ୍ଧ ଉତ୍ପାଦନ
 - 3. ମିଶ୍ରିତ ଚାଷ
 - 4. ଟ୍ରକ ଚାଷ

Question Type : MCQ
Question ID : 264330139743
Option 1 ID : 264330547387
Option 2 ID : 264330547390
Option 3 ID : 264330547388
Option 4 ID : 264330547389
Status : Answered
Chosen Option : 1

Q.21 'ପିଅରଲେସ ଗଭର୍ନାନ୍ସ (Fearless Governance)' ଶୀର୍ଷକ ପୁସ୍ତକର ଲେଖକ କିଏ?

- Ans
- 1. ଅରୁଜ ଧର
 - 2. ଅନିରୁଦ୍ଧ ସୁରୀ
 - 3. ଅମିତାଭ ଘୋଷ
 - 4. କିରଣ ବେଦୀ

Question Type : MCQ
Question ID : 264330138976
Option 1 ID : 264330544512
Option 2 ID : 264330544514
Option 3 ID : 264330544511
Option 4 ID : 264330544513
Status : Answered
Chosen Option : 2

Q.22 “ସ୍ଵାମୀ ଦୟାନନ୍ଦ ସରସ୍ଵତୀ”ଙ୍କ ଦ୍ଵାରା ପ୍ରତିଷ୍ଠିତ “ଆର୍ଯ୍ୟ ସମାଜ” ର ଉଦ୍ଦେଶ୍ୟ କ’ଣ ଥିଲା?

- Ans
- 1. ପଣ୍ୟ ବିନିମୟ ଦାଣ୍ଡିଜ୍ୟର ପ୍ରସାର କରିବା
 - 2. ଏକଚତ୍ରବାଦ ଶାସନ ପ୍ରତିଷ୍ଠା କରିବା
 - 3. ହିନ୍ଦୁ ଧର୍ମରେ ସଂସ୍କାର ଆଣିବା
 - 4. ବ୍ରିଟିଶମାନଙ୍କ ବିରୁଦ୍ଧରେ ବିଦ୍ରୋହ କରିବା

Question Type : MCQ

Question ID : 264330138969

Option 1 ID : 264330544483

Option 2 ID : 264330544484

Option 3 ID : 264330544485

Option 4 ID : 264330544486

Status : **Not Attempted and
Marked For Review**

Chosen Option : --

Q.23 ଛଟ ପୂଜା ପର୍ବ, ଭଗବାନ _____ କୁ ପ୍ରତି ଉତ୍ସର୍ଗୀକୃତ ।

- Ans
- 1. ଇନ୍ଦ୍ର
 - 2. ସୂର୍ଯ୍ୟ
 - 3. ବ୍ରହ୍ମା
 - 4. ବିଷ୍ଣୁ

Question Type : MCQ

Question ID : 264330140345

Option 1 ID : 264330549761

Option 2 ID : 264330549762

Option 3 ID : 264330549759

Option 4 ID : 264330549760

Status : **Answered**

Chosen Option : 2

Q.24 ଯେଉଁ ପ୍ରକ୍ରିୟାରେ ଦୁଇଟି ମିଶ୍ରଣକୁ ତରଳ ପଦାର୍ଥ ମିଶ୍ରିତ ହୁଅନ୍ତି ଏବଂ ଗୋଟିଏ ଅନ୍ୟ ମଧ୍ୟରେ ଛୋଟ ଛୋଟ ଦ୍ରୁତା ରୂପେ ଖେଳେଇ ହୋଇଯାଏ, ତାହା _____ ଭାବରେ ଜଣାଶୁଣା ।

- Ans**
- ✓ 1. ଅବଦ୍ରବୀକରଣ (Emulsification)
 - ✗ 2. ପୃଥକୀକରଣ (Separation)
 - ✗ 3. କାରାମେଲାଇଜେସନ(Caramelisation)
 - ✗ 4. ପରିସ୍ରବଣ (Filtration)

Question Type : **MCQ**

Question ID : **264330140733**

Option 1 ID : **264330551279**

Option 2 ID : **264330551282**

Option 3 ID : **264330551281**

Option 4 ID : **264330551280**

Status : **Answered**

Chosen Option : **3**

Q.25 ଆକବରଙ୍କ ରାଜତ୍ଵର ଇତିହାସ, "ଆକବର ନାମା" _____ କ ଦ୍ଵାରା ଲିଖିତ ।

- Ans**
- ✗ 1. ଅବୁଲ କାଦିର ଦାଦାଉନି
 - ✗ 2. ମହମ୍ମଦ ଖାନ
 - ✓ 3. ଅବୁଲ ଫଜଲ
 - ✗ 4. ଅଜାସ ଖାନ ଶେରଖାନି

Question Type : **MCQ**

Question ID : **264330139745**

Option 1 ID : **264330547396**

Option 2 ID : **264330547398**

Option 3 ID : **264330547395**

Option 4 ID : **264330547397**

Status : **Marked For Review**

Chosen Option : **2**

Section : English Language and Comprehension

Q.1 Select the most appropriate option to substitute the bracketed segment in the given sentence. If there is no need to substitute it, select 'no substitution required'.
(There's many a good tunes) played on an old violin.

- Ans**
- 1. There are many a good tunes
 - 2. No substitution required
 - 3. There's many good tune
 - 4. There are many good tunes

Question Type : **MCQ**
Question ID : **264330135824**
Option 1 ID : **264330532169**
Option 2 ID : **264330532170**
Option 3 ID : **264330532167**
Option 4 ID : **264330532168**
Status : **Marked For Review**
Chosen Option : **3**

Q.2 A sentence has been given with a blank to be filled with an appropriate option. Choose the correct alternative.
Your presence _____ both my brother and sister.

- Ans**
- 1. affecting
 - 2. effects
 - 3. affects
 - 4. effect

Question Type : **MCQ**
Question ID : **264330135158**
Option 1 ID : **264330529569**
Option 2 ID : **264330529567**
Option 3 ID : **264330529568**
Option 4 ID : **264330529570**
Status : **Answered**
Chosen Option : **4**

Q.3 Fill in the blank with the most appropriate option.
Sulochana, whose _____ I had so admired during the festival, seemed a different person.

- Ans**
- 1. shadow
 - 2. grace
 - 3. crudeness
 - 4. polish

Question Type : **MCQ**
Question ID : **264330136568**
Option 1 ID : **264330535010**
Option 2 ID : **264330535009**
Option 3 ID : **264330535008**
Option 4 ID : **264330535007**
Status : **Answered**
Chosen Option : **2**

Q.4 Choose the incorrectly spelt word.

- Ans
- 1. Blame
 - 2. Grave
 - 3. Leaf
 - 4. Staringg

Question Type : MCQ
Question ID : 264330141188
Option 1 ID : 264330553092
Option 2 ID : 264330553094
Option 3 ID : 264330553091
Option 4 ID : 264330553093
Status : Answered
Chosen Option : 2

Q.5 Identify the segment that contains a grammatical error. If there is no error, select 'No error'.
Fred and George had / bewitched there trunks to fly downstairs to / save the bother of carrying them.

- Ans
- 1. No error
 - 2. Fred and George had
 - 3. bewitched there trunks to fly downstairs to
 - 4. save the bother of carrying them.

Question Type : MCQ
Question ID : 264330136135
Option 1 ID : 264330533346
Option 2 ID : 264330533343
Option 3 ID : 264330533344
Option 4 ID : 264330533345
Status : Answered
Chosen Option : 2

Q.6 Identify the segment that contains a grammatical error. If there is no error, select 'No error'.
Although people had been on watch and / the watchkeepers were very, very tired, / everyone were up and buzzing.

- Ans
- 1. No Error
 - 2. everyone were up and buzzing.
 - 3. Although people had been on watch and
 - 4. the watchkeepers were very, very tired,

Question Type : MCQ
Question ID : 264330135821
Option 1 ID : 264330532158
Option 2 ID : 264330532157
Option 3 ID : 264330532155
Option 4 ID : 264330532156
Status : Answered
Chosen Option : 2

Q.7 Identify the segment that contains a grammatical error. If there is no error, select 'No error'

Your body will respond by/ getting more muscular and/ strong before you know it.

- Ans**
- 1. No error
 - 2. getting more muscular and
 - 3. strong before you know it.
 - 4. Your body will respond by

Question Type : **MCQ**
Question ID : **264330135664**
Option 1 ID : **264330531554**
Option 2 ID : **264330531552**
Option 3 ID : **264330531553**
Option 4 ID : **264330531551**
Status : **Answered**
Chosen Option : 1

Q.8 Choose the word that can substitute the given group of words.

A container for housing honeybees

- Ans**
- 1. Colonies
 - 2. Hive
 - 3. Pack
 - 4. Shoal

Question Type : **MCQ**
Question ID : **264330141186**
Option 1 ID : **264330553085**
Option 2 ID : **264330553086**
Option 3 ID : **264330553083**
Option 4 ID : **264330553084**
Status : **Answered**
Chosen Option : 2

Q.9 Four sentences are given, out of which three have spelling errors. Choose the sentence with all correctly spelt words.

- Ans**
- 1. There is no comparision between the two books.
 - 2. I got selected in D category.
 - 3. She handlled the situation cooly.
 - 4. What was the begining of the dispute?

Question Type : **MCQ**
Question ID : **264330136433**
Option 1 ID : **264330534493**
Option 2 ID : **264330534492**
Option 3 ID : **264330534491**
Option 4 ID : **264330534494**
Status : **Marked For Review**
Chosen Option : 2

Q.10 Fill in the blank with the most appropriate option.

'Well, that was _____ good,' said Harper.

- Ans
- 1. pretty
 - 2. beautiful
 - 3. gorgeous
 - 4. pleasing

Question Type : MCQ
Question ID : 264330136133
Option 1 ID : 264330533336
Option 2 ID : 264330533335
Option 3 ID : 264330533338
Option 4 ID : 264330533337
Status : Marked For Review
Chosen Option : 2

Q.11 Select the most appropriate antonym to substitute the bracketed word in the given sentence.

Similarly Sirius, the most (luminous) star in all the heavens, actually has a faint companion.

- Ans
- 1. excited
 - 2. serious
 - 3. gloomy
 - 4. miserable

Question Type : MCQ
Question ID : 264330136554
Option 1 ID : 264330534951
Option 2 ID : 264330534953
Option 3 ID : 264330534954
Option 4 ID : 264330534952
Status : Marked For Review
Chosen Option : 2

Q.12 Select the appropriate synonym for the underlined word.

You look around and you see green, happy plants.

- Ans
- 1. nascent
 - 2. mourning
 - 3. blissful
 - 4. gloomy

Question Type : MCQ

Question ID : 264330141196

Option 1 ID : 264330553119

Option 2 ID : 264330553121

Option 3 ID : 264330553122

Option 4 ID : 264330553120

Status : Answered

Chosen Option : 2

Q.13 Select the most appropriate word for the given group of words.

Information, especially of a biased or misleading nature, used to promote a political cause or point of view

- Ans
- 1. Propaganda
 - 2. Orchard
 - 3. Potable
 - 4. Welter

Question Type : MCQ

Question ID : 264330136758

Option 1 ID : 264330535735

Option 2 ID : 264330535738

Option 3 ID : 264330535737

Option 4 ID : 264330535736

Status : Answered

Chosen Option : 2

Q.14 The statement below has been given with bracketed text. Select the option with correct Idiom for the bracketed text.

He (made an irreversible change, that will greatly impact his life) when he got that huge tattoo on his back!

- Ans
- 1. beat the dead horse
 - 2. crossed the Rubicon
 - 3. put a rose on his nose
 - 4. became the devil's advocate

Question Type : MCQ

Question ID : 264330135762

Option 1 ID : 264330531927

Option 2 ID : 264330531928

Option 3 ID : 264330531930

Option 4 ID : 264330531929

Status : Answered

Chosen Option : 4

Q.15 In the following question, out of the given four alternatives, select the alternative which best expresses the meaning of the Idiom/Phrase.

Fairly and squarely

- Ans**
- 1. Suddenly
 - 2. Rigorously
 - 3. Honestly
 - 4. Wholly

Question Type : **MCQ**

Question ID : **264330135555**

Option 1 ID : **264330531121**

Option 2 ID : **264330531122**

Option 3 ID : **264330531119**

Option 4 ID : **264330531120**

Status : **Marked For Review**

Chosen Option : **1**

Q.16 Select the appropriate synonym for the underlined word.

Don't sound so excited

- Ans**
- 1. casual
 - 2. tired
 - 3. eager
 - 4. composed

Question Type : **MCQ**

Question ID : **264330135525**

Option 1 ID : **264330531005**

Option 2 ID : **264330531003**

Option 3 ID : **264330531004**

Option 4 ID : **264330531006**

Status : **Answered**

Chosen Option : **2**

Q.17 Select the word segment that substitutes (replaces) the bracketed word segment correctly and completes the sentence meaningfully. Select the option 'no correction required' if the sentence is correct as given.

He lost his temper (by a driver) flashed her headlights as he overtook.

- Ans**
- 1. No correction required
 - 2. afterwards a driver
 - 3. after a driver
 - 4. considering a driver

Question Type : **MCQ**

Question ID : **264330136564**

Option 1 ID : **264330534994**

Option 2 ID : **264330534991**

Option 3 ID : **264330534992**

Option 4 ID : **264330534993**

Status : **Answered**

Chosen Option : **1**

Q.18 Select the most appropriate antonym of the given word.

Crude

- Ans**
- 1. Ripe
 - 2. Stubble
 - 3. Beastly
 - 4. Intense

Question Type : **MCQ**

Question ID : **264330136205**

Option 1 ID : **264330533613**

Option 2 ID : **264330533612**

Option 3 ID : **264330533614**

Option 4 ID : **264330533611**

Status : **Marked For Review**

Chosen Option : **3**

Q.19 Improve the underlined part of the sentence. Choose 'No improvement' as an answer if the sentence is grammatically correct.

Even in time of natural disasters, the farmers had to pay their share of taxes.

- Ans**
- 1. timer of natural
 - 2. times of natural
 - 3. times of naturally
 - 4. No improvement

Question Type : **MCQ**
Question ID : **264330141182**
Option 1 ID : **264330553068**
Option 2 ID : **264330553067**
Option 3 ID : **264330553069**
Option 4 ID : **264330553070**
Status : **Answered**
Chosen Option : **2**

Q.20 Select the most appropriate option to fill in the blank.

She has a large, _____ sympathy and absolute fairness of temper.

- Ans**
- 1. thrifty
 - 2. generous
 - 3. mean
 - 4. sparing

Question Type : **MCQ**
Question ID : **264330135560**
Option 1 ID : **264330531141**
Option 2 ID : **264330531140**
Option 3 ID : **264330531139**
Option 4 ID : **264330531142**
Status : **Answered**
Chosen Option : **2**

Comprehension:

In the following passage some words have been deleted. Fill in the blanks with the help of the alternatives given. Select the most appropriate option for each number.

He (1) _____ his eyes. Moonlight was shining (2) _____ the bars on the window. And (3) _____ was goggling through the (4) _____ at him: a freckle-faced, red-haired, long-nosed someone. Ron Weasley was outside Harry's (5) _____.

SubQuestion No : 21

Q.21 Select the most appropriate option to fill in the blank No. 1.

- Ans
- 1. close
 - 2. open
 - 3. opened
 - 4. expanded

Question Type : MCQ
Question ID : 264330135698
Option 1 ID : 264330531681
Option 2 ID : 264330531680
Option 3 ID : 264330531679
Option 4 ID : 264330531682
Status : Answered
Chosen Option : 1

Comprehension:

In the following passage some words have been deleted. Fill in the blanks with the help of the alternatives given. Select the most appropriate option for each number.

He (1) _____ his eyes. Moonlight was shining (2) _____ the bars on the window. And (3) _____ was goggling through the (4) _____ at him: a freckle-faced, red-haired, long-nosed someone. Ron Weasley was outside Harry's (5) _____.

SubQuestion No : 22

Q.22 Select the most appropriate option to fill in the blank No. 2.

- Ans
- 1. complete
 - 2. though
 - 3. in
 - 4. through

Question Type : MCQ
Question ID : 264330135699
Option 1 ID : 264330531685
Option 2 ID : 264330531683
Option 3 ID : 264330531686
Option 4 ID : 264330531684
Status : Answered
Chosen Option : 1

Comprehension:

In the following passage some words have been deleted. Fill in the blanks with the help of the alternatives given. Select the most appropriate option for each number.

He (1) _____ his eyes. Moonlight was shining (2) _____ the bars on the window. And (3) _____ was goggling through the (4) _____ at him: a freckle-faced, red-haired, long-nosed someone. Ron Weasley was outside Harry's (5) _____.

SubQuestion No : 23

Q.23 Select the most appropriate option to fill in the blank No. 3.

- Ans**
- 1. somewhere
 - 2. someone
 - 3. sometimes
 - 4. somewhat

Question Type : **MCQ**

Question ID : **264330135700**

Option 1 ID : **264330531689**

Option 2 ID : **264330531687**

Option 3 ID : **264330531690**

Option 4 ID : **264330531688**

Status : **Marked For Review**

Chosen Option : **2**

Comprehension:

In the following passage some words have been deleted. Fill in the blanks with the help of the alternatives given. Select the most appropriate option for each number.

He (1) _____ his eyes. Moonlight was shining (2) _____ the bars on the window. And (3) _____ was goggling through the (4) _____ at him: a freckle-faced, red-haired, long-nosed someone. Ron Weasley was outside Harry's (5) _____.

SubQuestion No : 24

Q.24 Select the most appropriate option to fill in the blank No. 4.

- Ans**
- 1. grills
 - 2. horizontals
 - 3. verticals
 - 4. bars

Question Type : **MCQ**

Question ID : **264330135701**

Option 1 ID : **264330531691**

Option 2 ID : **264330531694**

Option 3 ID : **264330531693**

Option 4 ID : **264330531692**

Status : **Answered**

Chosen Option : **3**

Comprehension:

In the following passage some words have been deleted. Fill in the blanks with the help of the alternatives given. Select the most appropriate option for each number.

He (1) _____ his eyes. Moonlight was shining (2) _____ the bars on the window. And (3) _____ was goggling through the (4) _____ at him: a freckle-faced, red-haired, long-nosed someone. Ron Weasley was outside Harry's (5) _____.

SubQuestion No : 25

Q.25 Select the most appropriate option to fill in the blank No. 5.

- Ans**
- 1. toilet
 - 2. window
 - 3. suitcase
 - 4. cupboard

Question Type : **MCQ**

Question ID : **264330135702**

Option 1 ID : **264330531698**

Option 2 ID : **264330531695**

Option 3 ID : **264330531696**

Option 4 ID : **264330531697**

Status : **Answered**

Chosen Option : **2**