

Multi Tasking Non Technical Staff and Havaldar CBIC and CBN Examination 2023

Roll Number	4605013407
Candidate Name	NALINI KUMAR MALIK
Venue Name	Eastern Academy Of Science & Technology MAC Center
Exam Date	11/09/2023
Exam Time	9:00 AM - 11:00 AM
Subject	MTS Non Tech Havaldar CBIC and CBN Examination 2023

Section : Numerical and Mathematical Ability

Q.1 ନିମ୍ନଲିଖିତ ସାରଣୀକୁ ଅଧ୍ୟୟନ କର ଏବଂ ଏହାର ନିମ୍ନରେ ଥିବା ପ୍ରଦତ୍ତ ପ୍ରଶ୍ନର ଉତ୍ତର ଦିଅ ।
ବୃତ୍ତିଗତ ପାଠ୍ୟକ୍ରମ ଅନୁଯାୟୀ ବିଦ୍ୟାର୍ଥୀଙ୍କ ବୟନ ।

କ୍ରମାଙ୍କ	ପାଠ୍ୟକ୍ରମ	ଅଧ୍ୟାପକ ଗୋଷ୍ଠୀ			
		କଳା		ବିଜ୍ଞାନ	
		ବାଳିକା	ବାଳକ	ବାଳିକା	ବାଳକ
1.	ବିଜ୍ଞାନେତ୍ର ମ୍ୟାନେଜମେଣ୍ଟ	25	45	25	65
2.	ଟାଇପ-ରାଇଟିଙ୍ଗ୍	23	186	20	32
3.	କଣ୍ଠିକା	25	120	12	58
4.	ଟାଇପ-ରାଇଟିଙ୍ଗ୍ ଏବଂ କଣ୍ଠିକା	12	100	3	5

କଳା ଗୋଷ୍ଠୀର କେବଳ କଣ୍ଠିକା ପଢୁଥିବା ବିଦ୍ୟାର୍ଥୀଙ୍କ ପ୍ରତିଶତ କେତେ? (ନିକଟତମ ପୂର୍ଣ୍ଣସଂଖ୍ୟାରେ)

- Ans
- 1. 10
 - 2. 18
 - 3. 15
 - 4. 27

Question ID : 264330156351

Option 1 ID : 264330612803

Option 2 ID : 264330612805

Option 3 ID : 264330612804

Option 4 ID : 264330612806

Status : Answered

Chosen Option : 2

Q.2 ଯଦି ଗାଈଙ୍କର ଦରମା ପ୍ରଥମ ବର୍ଷରେ 5% ଏବଂ ପରବର୍ତ୍ତୀ ବର୍ଷରେ 2% ବୃଦ୍ଧି ହୁଏ, ତେବେ ଦୁଇ ବର୍ଷ ପରେ ତାଙ୍କ ଦରମାରେ ନିର୍ଦ୍ଦିଷ୍ଟ ପ୍ରତିଶତ କେତେ?

- Ans
- ✗ 1. 6.1%
 - ✗ 2. 8.1%
 - ✓ 3. 7.1%
 - ✗ 4. 5.1%

Question ID : 264330156218
Option 1 ID : 264330612272
Option 2 ID : 264330612274
Option 3 ID : 264330612273
Option 4 ID : 264330612271
Status : Answered
Chosen Option : 3

Q.3 12ମ ଶ୍ରେଣୀର କିଛି ବିଦ୍ୟାର୍ଥୀମାନଙ୍କର ହାରାହାରି ଓଜନ 56 kg ଥିଲା । ହାରାହାରି ଓଜନ 58 kg ଥିବା ସାତ ଜଣ ବିଦ୍ୟାର୍ଥୀ ଶ୍ରେଣୀରେ ଯୋଗ ଦେଲେ ଏବଂ ସମସ୍ତ ବିଦ୍ୟାର୍ଥୀଙ୍କର ହାରାହାରି ଓଜନ 200 gm ବୃଦ୍ଧି ପାଇଲା । ଆରମ୍ଭରୁ ଶ୍ରେଣୀରେ ଥିବା ବିଦ୍ୟାର୍ଥୀମାନଙ୍କର ସଂଖ୍ୟା ନିର୍ଣ୍ଣୟ କର ।

- Ans
- ✗ 1. 77
 - ✓ 2. 63
 - ✗ 3. 56
 - ✗ 4. 49

Question ID : 264330156548
Option 1 ID : 264330613582
Option 2 ID : 264330613581
Option 3 ID : 264330613580
Option 4 ID : 264330613579
Status : Answered
Chosen Option : 3

Q.4 ଅରବିନ୍ଦ, ବିଲାଲ, କାର୍ମୀନ ଏକ ବ୍ୟବସାୟରେ, ₹49,000 ବିନିଯୋଗ କରନ୍ତି । ଅରବିନ୍ଦ ବିଲାଲଙ୍କ ଠାରୁ ₹ 5,000 ଅଧିକ ଏବଂ ବିଲାଲ କାର୍ମୀନ ଠାରୁ, ₹4,000 ଅଧିକ ବିନିଯୋଗ କରନ୍ତି । ମୋଟ ଲାଭ ₹98,000 ରୁ ବିଲାଲ କେତେ ପାଇବେ ?

- Ans
- ✓ 1. ₹32,000
 - ✗ 2. ₹30,500
 - ✗ 3. ₹33,200
 - ✗ 4. ₹34,400

Question ID : 264330156108
Option 1 ID : 264330611832
Option 2 ID : 264330611833
Option 3 ID : 264330611834
Option 4 ID : 264330611831
Status : Answered
Chosen Option : 3

Q.5 ଯଦି ଦୁଇଟି ସଂଖ୍ୟାର ହାରାହାରି 12 ଏବଂ ସେଗୁଡ଼ିକର ଗୁଣଫଳ 119 ହୁଏ ତେବେ ସଂଖ୍ୟା ଦୁଇଟି ମଧ୍ୟରେ ପାର୍ଥକ୍ୟ ନିରୂପଣ କର ।

- Ans
- 1. 8
 - 2. 7
 - 3. 10
 - 4. 6

Question ID : 264330156508
Option 1 ID : 264330613419
Option 2 ID : 264330613420
Option 3 ID : 264330613421
Option 4 ID : 264330613422
Status : Answered
Chosen Option : 3

Q.6 1288, 230, 276 ର ଲ.ସା.ଗୁ ନିରୂପଣ କରନ୍ତୁ?

- Ans
- 1. 6,440
 - 2. 19,230
 - 3. 9,660
 - 4. 19,320

Question ID : 264330156092
Option 1 ID : 264330611770
Option 2 ID : 264330611767
Option 3 ID : 264330611769
Option 4 ID : 264330611768
Status : Answered
Chosen Option : 1

Q.7 $3\frac{1}{2} - [2\frac{1}{4} \div \{1\frac{1}{4} - \frac{3}{4}(1\frac{1}{2} - \frac{1}{2} - 2\frac{1}{2})\}]$ ର ମୂଲ୍ୟାଙ୍କନ କର ।

- Ans
- 1. $1\frac{21}{38}$
 - 2. $2\frac{19}{18}$
 - 3. $2\frac{21}{38}$
 - 4. $\frac{47}{38}$

Question ID : 264330154038
Option 1 ID : 264330603618
Option 2 ID : 264330603615
Option 3 ID : 264330603616
Option 4 ID : 264330603617
Status : Answered
Chosen Option : 1

Q.8 2 ବର୍ଷରେ ମୂଲ୍ୟନ ₹2,000 ର ସମୂଳସ୍ତୁଧ ₹2,880 ହୁଏ । ଯଦି ଚକ୍ରବୃଦ୍ଧି ସ୍ତୁଧ ବାର୍ଷିକ ହିସାବରେ ଗଣନା କରାଯାଏ ତେବେ ସ୍ତୁଧ ହାର କେତେ?

- Ans
- 1. 12%
 - 2. 28%
 - 3. 10%
 - 4. 20%

Question ID : 264330154054

Option 1 ID : 264330603682

Option 2 ID : 264330603680

Option 3 ID : 264330603679

Option 4 ID : 264330603681

Status : Answered

Chosen Option : 1

Q.9 ମୋହନ 24 ଦିନରେ ଏକ କାମ ସଂପୂର୍ଣ୍ଣ କରିପାରନ୍ତି । ସେ 6 ଦିନ କାମ କରି କାମ ଛାଡ଼ିଦେଲେ । ଏହା ପରେ, ସୋହନ ଅବଶିଷ୍ଟ କାମକୁ 21 ଦିନରେ ସମାପ୍ତ କଲେ । ମୋହନ ଏବଂ ସୋହନ ଏକତ୍ର ଏହି କାମକୁ କେତେ ଦିନରେ ସଂପୂର୍ଣ୍ଣ କରିପାରିବେ?

- Ans
- 1. $12\frac{12}{13}$ ଦିନରେ
 - 2. $12\frac{11}{13}$ ଦିନରେ
 - 3. $12\frac{10}{13}$ ଦିନରେ
 - 4. $12\frac{9}{13}$ ଦିନରେ

Question ID : 264330156238

Option 1 ID : 264330612354

Option 2 ID : 264330612353

Option 3 ID : 264330612352

Option 4 ID : 264330612351

Status : Answered

Chosen Option : 1

Q.10 ଯଦି ନିର୍ମାତା 10% ଲାଭ କରେ, ହୋଲସେଲ ଡିଲର 12% ଲାଭ କରେ ଏବଂ ଖୁଚୁରା ବ୍ୟବସାୟୀ 15% ଲାଭ କରେ, ତେବେ ଚେନ୍ନୁଲର ଖୁଚୁରା ମୂଲ୍ୟ ₹ 1,771 ହେଲେ, ଏକ ଚେନ୍ନୁଲର ନିର୍ମାଣ ମୂଲ୍ୟ ନିରୂପଣ କରନ୍ତୁ ।

- Ans
- 1. ₹1,250
 - 2. ₹1,150
 - 3. ₹1,350
 - 4. ₹1,050

Question ID : 264330155998

Option 1 ID : 264330611392

Option 2 ID : 264330611393

Option 3 ID : 264330611394

Option 4 ID : 264330611391

Status : Not Answered

Chosen Option : --

Q.11 ଯଥାକ୍ରମେ 5 cm ଏବଂ 6 cm ର ଅନ୍ତର୍ବ୍ୟାସାର୍ଥ ଏବଂ ବହିର୍ବ୍ୟାସାର୍ଥ ବିଶିଷ୍ଟ ଏକ ଫମ୍ପା ଧାତୁ ଗୋଲକକୁ ତରଳା ଯାଇ, 5.2 cm ଭୂମି ବ୍ୟାସାର୍ଥ ବିଶିଷ୍ଟ ଏକ ନିର୍ବା କୋନରେ ପରିଣତ କରାଯାଏ । କୋନର ଉଚ୍ଚତା (cm ରେ, ଦଶମିକ 1 ଥାନ ପର୍ଯ୍ୟନ୍ତ) କେତେ?

- Ans
- ✗ 1. 14.5
 - ✗ 2. 12.8
 - ✓ 3. 13.5
 - ✗ 4. 11.8

Question ID : 264330153794
Option 1 ID : 264330602640
Option 2 ID : 264330602639
Option 3 ID : 264330602642
Option 4 ID : 264330602641
Status : Answered
Chosen Option : 1

Q.12 ବାର୍ଷିକ 6% ସୁଧ ହାରରେ ପାଞ୍ଚ ବର୍ଷ ପରେ କେଉଁ ମୂଲ୍ୟନର (₹ ରେ) ସରଳ ସୁଧ ₹1,800 ହେବ?

- Ans
- ✗ 1. 5,000
 - ✗ 2. 18,000
 - ✗ 3. 8,000
 - ✓ 4. 6,000

Question ID : 264330156484
Option 1 ID : 264330613324
Option 2 ID : 264330613326
Option 3 ID : 264330613325
Option 4 ID : 264330613323
Status : Answered
Chosen Option : 4

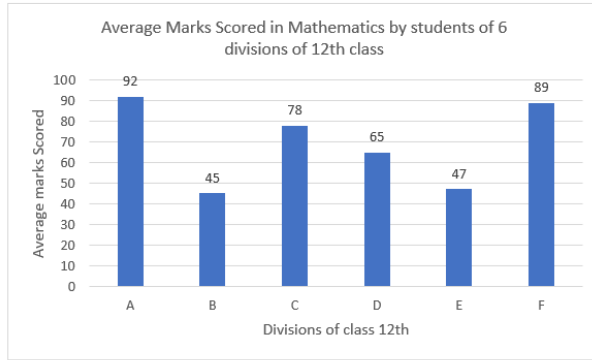
Q.13 7 cm ବ୍ୟାସ ଥିବା ଏକ ଗୋଲକର ଆୟତନ କେତେ (cm^3 ରେ)?

$(\pi = \frac{22}{7})$ ବ୍ୟବହାର କରନ୍ତୁ

- Ans
- ✗ 1. 186.44
 - ✗ 2. 197.66
 - ✗ 3. 168.44
 - ✓ 4. 179.66

Question ID : 264330156368
Option 1 ID : 264330612872
Option 2 ID : 264330612871
Option 3 ID : 264330612874
Option 4 ID : 264330612873
Status : Answered
Chosen Option : 3

Q.14 XII ମ ଷ୍ଟାଣ୍ଡାର୍ଡର 6 ଟି ବିଭାଗର ବିଦ୍ୟାର୍ଥୀମାନଙ୍କ ଦ୍ୱାରା ଗଣିତ ପରୀକ୍ଷାରେ (100 ରୁ) ପାଇଥିବା ହାରାହାରି ମାର୍କ ନିମ୍ନୋକ୍ତ ବାର-ଗ୍ରାଫରେ ପ୍ରଦର୍ଶିତ ହୋଇଛି ।



(Average Marks Scored in Mathematics by students of 6 divisions of 12th class – 12ମ ଷ୍ଟାଣ୍ଡାର୍ଡର 6 ଟି ବିଭାଗର ବିଦ୍ୟାର୍ଥୀମାନଙ୍କ ଦ୍ୱାରା ଗଣିତ ପରୀକ୍ଷାରେ (100 ରୁ) ପାଇଥିବା ହାରାହାରି ମାର୍କ, Average Marks Scored - ପାଇଥିବା ହାରାହାରି ମାର୍କ, Divisions of class 12th - 12ମ ଷ୍ଟାଣ୍ଡାର୍ଡର ବିଭାଗଗୁଡ଼ିକ)
 ବିଭାଗ B ଓ ବିଭାଗ D ଦ୍ୱାରା ଖୋର ହୋଇଥିବା ହାରାହାରି ମାର୍କର ଅନୁପାତ କେତେ?

- Ans**
- ✓ 1. 9 : 13
 - ✗ 2. 1 : 9
 - ✗ 3. 13 : 9
 - ✗ 4. 1 : 3

Question ID : 264330154101
 Option 1 ID : 264330603867
 Option 2 ID : 264330603870
 Option 3 ID : 264330603868
 Option 4 ID : 264330603869
 Status : Answered
 Chosen Option : 1

Q.15 ଯଦି ଏକ ନିର୍ଦ୍ଦିଷ୍ଟ ଦୂରତା ଅତିକ୍ରମ କରିବା ପାଇଁ ତିନୋଟି କାର୍ ହାରା ଲାଗିଥିବା ସମୟ ମଧ୍ୟରେ ଅନୁପାତ 2 : 3 : 5 ହୁଏ, ତେବେ ଏହି କାରଗୁଡ଼ିକର ବେଗର ଅନୁପାତ ହେବ :

- Ans**
- ✓ 1. 15 : 10 : 6
 - ✗ 2. 10 : 15 : 8
 - ✗ 3. 15 : 9 : 8
 - ✗ 4. 10 : 6 : 15

Question ID : 264330156292
 Option 1 ID : 264330612569
 Option 2 ID : 264330612568
 Option 3 ID : 264330612570
 Option 4 ID : 264330612567
 Status : Answered
 Chosen Option : 1

Q.16 ଦୁଇ ଜଣ ସାଇକେଲ ଚାଳକ ଏକ ସମୟରେ 200 km ଲମ୍ବା ସିଧା ରାସ୍ତାର ବିପରୀତ ପ୍ରାନ୍ତରୁ ଯାତ୍ରା ଆରମ୍ଭ କରନ୍ତି । ଜଣେ ସାଇକେଲ ଚାଳକ 20 km/h ବେଗରେ ଏବଂ ଅନ୍ୟ ସାଇକେଲ ଚାଳକ 30 km/h ବେଗରେ ଯାତ୍ରା କରେ । ସେମାନଙ୍କୁ ପରସ୍ପରକୁ ଭେଟିବାକୁ କେତେ ସମୟ ଲାଗିବ?

- Ans**
- 1. 5 ଘଣ୍ଟା
 - 2. 4 ଘଣ୍ଟା
 - 3. 4.5 ଘଣ୍ଟା
 - 4. 5.5 ଘଣ୍ଟା

Question ID : 264330156274

Option 1 ID : 264330612497

Option 2 ID : 264330612495

Option 3 ID : 264330612496

Option 4 ID : 264330612498

Status : Answered

Chosen Option : 3

Q.17 କିଛି ପରିମାଣର ପାଣିରେ, ଏହାର ଚାରି ଗୁଣ ପରିମାଣର କ୍ଷୀର ମିଶାଇ ଦିଆଯାଏ । ଯଦି ମିଶ୍ରଣର ବର୍ତ୍ତମାନ ପରିମାଣ 7.5 ଲିଟର ଅଛି, ତେବେ ମିଶ୍ରଣରେ 90% କ୍ଷୀର ପାଇବା ପାଇଁ ଆଉ କେତେ କ୍ଷୀର ମିଶାଯିବ?

- Ans**
- 1. 6 ଲିଟର
 - 2. 7.5 ଲିଟର
 - 3. 9 ଲିଟର
 - 4. 9.5 ଲିଟର

Question ID : 264330153800

Option 1 ID : 264330602663

Option 2 ID : 264330602664

Option 3 ID : 264330602665

Option 4 ID : 264330602666

Status : Not Answered

Chosen Option : --

Q.18 ଗୋଟିଏ ଦୁର୍ଗରେ 160 ଜଣ ଲୋକଙ୍କ ପାଇଁ 94 ଦିନର ଖାଦ୍ୟ ଥିଲା । 10 ଦିନ ପରେ 20 ଜଣ ଲୋକ ଦୁର୍ଗ ଛାଡ଼ି ପଳାଇଲେ । ସମାନ ହାରରେ ଆଉ କେତେ ସମୟ (ଦିନ ରେ) ପାଇଁ ଖାଦ୍ୟ ରହିବ?

- Ans**
- 1. 100
 - 2. 96
 - 3. 84
 - 4. 90

Question ID : 264330156495

Option 1 ID : 264330613367

Option 2 ID : 264330613369

Option 3 ID : 264330613368

Option 4 ID : 264330613370

Status : Answered

Chosen Option : 3

Q.19 $2a$ ଓ $5a$ ର ଚତୁର୍ଥ ସମାନ୍ତରାତ୍ମା _____ ଅଟେ ।

Ans 1. $\frac{2a^2}{5}$

2. $\frac{5a^2}{2}$

3. $\frac{2a^2}{3}$

4. $\frac{5a^2}{3}$

Question ID : 264330153809

Option 1 ID : 264330602702

Option 2 ID : 264330602701

Option 3 ID : 264330602699

Option 4 ID : 264330602700

Status : Answered

Chosen Option : 1

Q.20 ଯଦି 16ଟି ବଲ୍ ର ବିକ୍ରୟ ମୂଲ୍ୟ 24 ବଲ୍ ର କ୍ରୟ ମୂଲ୍ୟ ସହିତ ସମାନ ହୁଏ, ତେବେ ଲାଭ ଶତକଡ଼ା କେତେ?

Ans 1. 25%

2. 50%

3. 40%

4. 20%

Question ID : 264330161014

Option 1 ID : 264330631389

Option 2 ID : 264330631390

Option 3 ID : 264330631388

Option 4 ID : 264330631387

Status : Answered

Chosen Option : 3

Section : Reasoning Ability and Problem Solving

Q.1 ପ୍ରଦତ୍ତ ଅନୁକ୍ରମରେ '?' ସ୍ଥାନରେ କ'ଣ ରହିବା ଆବଶ୍ୟକ?

5 23 95 ? 1535 6143 24575

Ans 1. 361

2. 383

3. 312

4. 347

Question ID : 264330151493

Option 1 ID : 264330593601

Option 2 ID : 264330593602

Option 3 ID : 264330593599

Option 4 ID : 264330593600

Status : Not Answered

Chosen Option : --

Q.2 ଶବ୍ଦ-ଯୋଡ଼ି ଚୟନ କରନ୍ତୁ ଯାହା ନିମ୍ନରେ ଦିଆଯାଇଥିବା ଶବ୍ଦଗୁଡ଼ିକର ଯୋଡ଼ିରେ ପ୍ରକାଶିତ ସମ୍ପର୍କ ସହିତ ସମାନ ସମ୍ପର୍କକୁ ସର୍ବୋତ୍ତମ ଭାବରେ ପ୍ରତିନିଧିତ୍ୱ କରେ ।

(ଶବ୍ଦଗୁଡ଼ିକ ଅର୍ଥପୂର୍ଣ୍ଣ ଓଡ଼ିଆ ଶବ୍ଦ ଭାବରେ ବିବେଚନା କରାଯିବା ଆବଶ୍ୟକ ଏବଂ ଶବ୍ଦ ଅକ୍ଷର ସଂଖ୍ୟା / ବ୍ୟଞ୍ଜନ ବର୍ଣ୍ଣ ସଂଖ୍ୟା / ସ୍ୱରବର୍ଣ୍ଣ ସଂଖ୍ୟା ଆଧାରରେ ପରସ୍ପର ସହ ଜଡ଼ିତ ହେବା ଉଚିତ୍ ନୁହେଁ)

ମାନଚିତ୍ରର ସୂଚକ : ମାନଚିତ୍ର

Ans 1. ଖଣ୍ଡ(ଭଲୁ୍ୟମ) : ଗାଈତ୍ ଦୁକ୍

2. ଶବ୍ଦକୋଷ ବା ଶବ୍ଦସୂଚକ (ଗ୍ଲୋସାରୀ) : ଶବ୍ଦ ବା ପାଠ୍ୟ (ଟେକ୍ସଟ)

3. ସ୍ତମ୍ଭ : ପ୍ରବନ୍ଧ

4. ଦୃଷ୍ଟି : ଜୀବନୀ

Question ID : 264330154642

Option 1 ID : 264330606031

Option 2 ID : 264330606033

Option 3 ID : 264330606034

Option 4 ID : 264330606032

Status : Answered

Chosen Option : 3

Q.3 ନିମ୍ନରେ ପ୍ରଦର୍ଶିତ ହେବା ଭଳି ଯଦି ଦର୍ପଣକୁ MN ରେ ରଖାଯାଏ ତେବେ ଦିଆଯାଇଥିବା ଚିତ୍ରର ସଠିକ୍ ଦର୍ପଣ ପ୍ରତିବିମ୍ବ ଚୟନ କରନ୍ତୁ ।

M
|
K d 2 7 z 4 r
|
N

Ans 1. K p 5 7 z 4 r

2. K q 2 7 z 4 r

3. K q 5 7 z 4 r

4. K q 5 7 z 4 r

Question ID : 264330151506

Option 1 ID : 264330593654

Option 2 ID : 264330593651

Option 3 ID : 264330593652

Option 4 ID : 264330593653

Status : Answered

Chosen Option : 2

Q.4 ଯଦି 'CHILDREN' ଶବ୍ଦର ପ୍ରତ୍ୟେକ ଅକ୍ଷରକୁ ବର୍ଣ୍ଣମାଳା କ୍ରମରେ ବ୍ୟବସ୍ଥିତ କରାଯାଏ, ତେବେ କେତୋଟି ଅକ୍ଷରର ସ୍ଥାନ ଅପରିବର୍ତ୍ତିତ ରହିବ?

- Ans
- 1. ତିନୋଟି
 - 2. ଚାରୋଟି
 - 3. ଗୋଟିଏ
 - 4. ଦୁଇଟି

Question ID : 264330154328

Option 1 ID : 264330604778

Option 2 ID : 264330604776

Option 3 ID : 264330604775

Option 4 ID : 264330604777

Status : Answered

Chosen Option : 2

Q.5 ପ୍ରଦତ୍ତ ବିବୃତି ଓ ନିଷ୍କର୍ଷକୁ ଧ୍ୟାନ ସହକାରେ ପଢ଼ନ୍ତୁ । ସାଧାରଣ ଭାବେ ଜଣା ଥିବା ତଥ୍ୟ ଠାରୁ ସେଗୁଡ଼ିକ ଭିନ୍ନ ବୋଲି ଜଣା ପଡ଼ୁଥିଲେ ମଧ୍ୟ ଆପଣଙ୍କୁ ପ୍ରଦତ୍ତ ବିବୃତିଗୁଡ଼ିକୁ ସତ୍ୟ ବୋଲି ମାନିବାକୁ ହେବ । ପ୍ରଦତ୍ତ ବିବୃତିଗୁଡ଼ିକୁ ଯୁକ୍ତିଯୁକ୍ତ ଭାବେ ଅନୁସରଣ କରୁଥିବା ନିଷ୍କର୍ଷ ବା ନିଷ୍କର୍ଷଗୁଡ଼ିକୁ ଆପଣଙ୍କୁ ଚୟନ କରିବାକୁ ହେବ ।

ବିବୃତି: ସମସ୍ତ ଚର୍ଚ୍ଚ, ଗୀତାର ଅଟେ । କିଛି ଗୀତାର, ବଲ୍ଲ ଅଟେ । କୌଣସି ବଲ୍ଲ, ଏକ କ୍ଷୋଭ ରୁହେଁ ।

ନିଷ୍କର୍ଷ I: ସମସ୍ତ ବଲ୍ଲ, ଗୀତାର ଅଟେ ।

ନିଷ୍କର୍ଷ II: କୌଣସି ଗୀତାର, ଏକ ଚର୍ଚ୍ଚ ରୁହେଁ ।

- Ans
- 1. ଉଭୟ ନିଷ୍କର୍ଷ (I) ଓ (II) ଅନୁସରଣ କରେ ।
 - 2. ନିଷ୍କର୍ଷ (I) କିମ୍ବା (II) ଅନୁସରଣ କରେ ନାହିଁ ।
 - 3. କେବଳ ନିଷ୍କର୍ଷ (II) ଅନୁସରଣ କରେ ।
 - 4. କେବଳ ନିଷ୍କର୍ଷ (I) ଅନୁସରଣ କରେ ।

Question ID : 264330155912

Option 1 ID : 264330611054

Option 2 ID : 264330611053

Option 3 ID : 264330611052

Option 4 ID : 264330611051

Status : Answered

Chosen Option : 2

Q.6 ଏକ ନିର୍ଦ୍ଦିଷ୍ଟ କୋଡ଼ ଭାଷାରେ, 'BACK' କୁ '17' ଭାବରେ କୋଡ଼ ହୋଇଛି ଏବଂ 'DTDC' କୁ '31' ଭାବରେ କୋଡ଼ ହୋଇଛି । ପ୍ରଦତ୍ତ କୋଡ଼ ଭାଷାରେ 'JAAM' ପାଇଁ କୋଡ଼ କ'ଣ ହେବ?

- Ans**
- 1. 40
 - 2. 20
 - 3. 35
 - 4. 25

Question ID : 264330155819

Option 1 ID : 264330610682

Option 2 ID : 264330610681

Option 3 ID : 264330610680

Option 4 ID : 264330610679

Status : Answered

Chosen Option : 1

Q.7 ନିମ୍ନଲିଖିତ ସଂଖ୍ୟା-ଯୋଡ଼ିଗୁଡ଼ିକରେ ଥିବା ପ୍ରଥମ ସଂଖ୍ୟାରେ ନିର୍ଦ୍ଦିଷ୍ଟ ଗାଣିତିକ କ୍ରିୟା କରିବା ଦ୍ୱାରା ଦ୍ୱିତୀୟ ସଂଖ୍ୟା ପ୍ରାପ୍ତ ହୋଇଥାଏ । ଗୋଟିଏ ସେଟ୍ ଚୟନ କରନ୍ତୁ, ଯେଉଁଥିରେ ଥିବା ସଂଖ୍ୟାଗୁଡ଼ିକ ନିମ୍ନଲିଖିତ ସେଟ୍‌ରେ ଥିବା ସଂଖ୍ୟାଗୁଡ଼ିକ ଭଳି ସମ୍ପର୍କିତ ହୋଇଥିବେ ।

(ଦ୍ରଷ୍ଟବ୍ୟ : ସଂଖ୍ୟାଗୁଡ଼ିକ ସେମାନଙ୍କ ଉପାଦାନ ଅଙ୍କ ଅନୁସାରେ ବିଭାଜିତ ନକରି ପୁରା ସଂଖ୍ୟା ଉପରେ ଗାଣିତିକ କ୍ରିୟାର ପ୍ରୟୋଗ କରାଯିବ । ଉଦାହରଣ ସ୍ୱରୂପ, ସଂଖ୍ୟା 13 ଉପରେ ଯୋଗ/ବିୟୋଗ/ଗୁଣନ ଆଦି ଗାଣିତିକ କ୍ରିୟା ସମ୍ପାଦନ କରାଯାଇପାରିବ । 13 କୁ ଅଙ୍କ 1 ଏବଂ 3 ରେ ବିଭକ୍ତ କରିବା ଏବଂ ଏହାପରେ 1 ଏବଂ 3 ଉପରେ ଗାଣିତିକ କ୍ରିୟା ସମ୍ପାଦନ କରିବା ଗ୍ରହଣୀୟ ନୁହେଁ)

8, 128

9, 162

- Ans**
- 1. 14, 392
 - 2. 12, 149
 - 3. 13, 170
 - 4. 11, 124

Question ID : 264330151619

Option 1 ID : 264330594106

Option 2 ID : 264330594104

Option 3 ID : 264330594105

Option 4 ID : 264330594103

Status : Answered

Chosen Option : 3

Q.8 ଯଦି '+' ଏବଂ '-' କୁ ପରସ୍ପର ମଧ୍ୟରେ ଅଦଳବଦଳ କରାଯାଏ ଏବଂ 'x' ଏବଂ '÷' କୁ ପରସ୍ପର ମଧ୍ୟରେ ଅଦଳବଦଳ କରାଯାଏ ତେବେ ନିମ୍ନଲିଖିତ ସମୀକରଣରେ '?' ସ୍ଥାନରେ କ'ଣ ପ୍ରତିସ୍ଥାପିତ ହେବ ।

$$15 - 6 + 12 \times 3 \div 4 = ?$$

- Ans
- 1. 9
 - 2. 7
 - 3. 5
 - 4. 10

Question ID : 264330154662

Option 1 ID : 264330606113

Option 2 ID : 264330606114

Option 3 ID : 264330606112

Option 4 ID : 264330606111

Status : Answered

Chosen Option : 1

Q.9 ଇଂରାଜୀ ବର୍ଣ୍ଣମାଳା କ୍ରମ ଆଧାରରେ ପ୍ରଦତ୍ତ ଅନୁକ୍ରମରେ ପ୍ରଶ୍ନ ଚିହ୍ନ (?) କେଉଁ ବିକଳ୍ପ ଦ୍ୱାରା ପ୍ରତିସ୍ଥାପିତ ହେବ?

CSP, EUQ, GWR, IYS, ?

- Ans
- 1. JAR
 - 2. LBT
 - 3. JBS
 - 4. KAT

Question ID : 264330155783

Option 1 ID : 264330610537

Option 2 ID : 264330610538

Option 3 ID : 264330610536

Option 4 ID : 264330610535

Status : Not Answered

Chosen Option : --

Q.10 ସେହି ବିକଳ୍ପ ଚିତ୍ର ଚୟନ କରନ୍ତୁ ଯେଉଁଥିରେ ଦିଆଯାଇଥିବା ଚିତ୍ର (X) ଏହାର ଅଂଶ ଭାବରେ ଅନ୍ତର୍ଭାଗିତ ହୋଇଛି (ପୂର୍ଣ୍ଣନ ପାଇଁ ଅନୁମତି ନାହିଁ)।



(X)

Ans

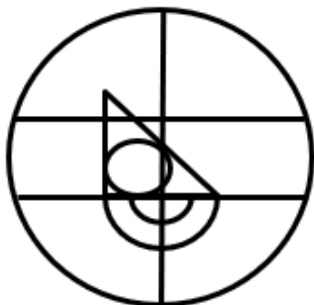
✓ 1.



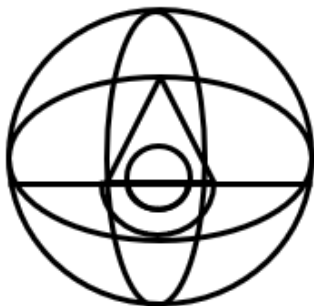
✗ 2.



✗ 3.



✗ 4.



Question ID : 264330151725

Option 1 ID : 264330594530

Option 2 ID : 264330594528

Option 3 ID : 264330594527

Option 4 ID : 264330594529

Status : Answered

Chosen Option : 1

Q.11 ଏକ ନିର୍ଦ୍ଦିଷ୍ଟ କୋଡ୍ ଭାଷାରେ, 'yes you can' କୁ 'an cf dt' ଭାବରେ କୋଡ୍ ହୋଇଛି ଏବଂ 'you are enough' କୁ 'sk dt hw' ଭାବରେ କୋଡ୍ ହୋଇଛି । ପ୍ରଦତ୍ତ ଭାଷାରେ 'you' କିପରି କୋଡ୍ ହୋଇଛି?

- Ans**
- ✔ 1. dt
 - ✘ 2. hw
 - ✘ 3. cf
 - ✘ 4. sk

Question ID : 264330151706

Option 1 ID : 264330594452

Option 2 ID : 264330594453

Option 3 ID : 264330594451

Option 4 ID : 264330594454

Status : Answered

Chosen Option : 4

Q.12 ଯଦି ନିମ୍ନଲିଖିତ ଚିତ୍ରର କ୍ରମ ଜାରି ରହିବା ଆବଶ୍ୟକ ତେବେ କେଉଁ ଚିତ୍ର ଦ୍ୱାରା ପ୍ରଶ୍ନ ଚିହ୍ନ (?) ପ୍ରତିସ୍ଥାପିତ ହେବ?

7	V	C	7	=	C	□	=					
=	↑	Z	Z	V	=	V	3	7	7	C	V	?
3	D		↑	3	Z	↑	3	Z				

Ans

✗ 1.

	=	V	
3	7	□	
Z	C		

✗ 2.

	=	V	
C	Z	□	
7	3		

✗ 3.

	V	□	
3	7	=	
Z	C		

✓ 4.

	V	□	
C	Z	=	
7	3		

Question ID : 264330154761

Option 1 ID : 264330606508

Option 2 ID : 264330606509

Option 3 ID : 264330606510

Option 4 ID : 264330606507

Status : Not Answered

Chosen Option : --

Q.13 ସଠିକ୍ ବିକଳ୍ପଟିକୁ ନିର୍ଣ୍ଣୟ କର, ଯାହା ପ୍ରଦତ୍ତ କ୍ରମର ଶୂନ୍ୟ ସ୍ଥାନଗୁଡ଼ିକରେ ସମାନ କ୍ରମାନୁସାରେ ସ୍ଥାପନ କଲେ କ୍ରମଟି ଚର୍ଚ୍ଚିତ ଭାବରେ ସଂପୂର୍ଣ୍ଣ ହେବ ।

BK_Y_KUT R_PO MKK_ HK_E

- Ans
- 1. WBHZP
 - 2. ZKWLF
 - 3. WKBFP
 - 4. ZWKJF

Question ID : 264330154729

Option 1 ID : 264330606381

Option 2 ID : 264330606380

Option 3 ID : 264330606379

Option 4 ID : 264330606382

Status : Not Answered

Chosen Option : --

Q.14 ଦାପକ, ଗୌରୀ, ବବିତା, ଇରା, ଫରହିନ୍ ଓ ହେମା ନାମକ ଛ'ଜଣ ବ୍ୟକ୍ତି ଉତ୍ତର ଦିଗକୁ ମୁହଁ କରି ଏକ ସରଳରେଖାରେ ବସିଛନ୍ତି । ଦାପକ ବାମ ପାର୍ଶ୍ୱର ଶେଷମୁଣ୍ଡରୁ 2ୟ ସ୍ଥାନରେ ବସିଛନ୍ତି । ଦାପକଙ୍କ ତାହାଣ ପାର୍ଶ୍ୱର 2ୟ ସ୍ଥାନରେ ଗୌରୀ ବସିଛନ୍ତି । ଗୌରୀଙ୍କ ତାହାଣ ପାର୍ଶ୍ୱର 2ୟ ସ୍ଥାନରେ ଇରା ବସିଛନ୍ତି । ଇରାଙ୍କ ବାମ ପାର୍ଶ୍ୱର 3ୟ ସ୍ଥାନରେ ଫରହିନ୍ ବସିଛନ୍ତି । ଫରହିନଙ୍କ ବାମ ପାର୍ଶ୍ୱର 2ୟ ସ୍ଥାନରେ ବବିତା ବସିଛନ୍ତି । ଦାପକଙ୍କ ତାହାଣ ପାର୍ଶ୍ୱର 3ୟ ସ୍ଥାନରେ କିଏ ବସିଛନ୍ତି?

- Ans
- 1. ହେମା
 - 2. ଇରା
 - 3. ବବିତା
 - 4. ଫରହୀନ

Question ID : 264330155661

Option 1 ID : 264330610047

Option 2 ID : 264330610048

Option 3 ID : 264330610049

Option 4 ID : 264330610050

Status : Answered

Chosen Option : 2

Q.15 ପ୍ରଦତ୍ତ ଅନୁକ୍ରମରେ '?' ସ୍ଥାନରେ କ'ଣ ରହିବା ଆବଶ୍ୟକ?

11 59 299 1499 7499 ?

- Ans
- 1. 37499
 - 2. 38199
 - 3. 37699
 - 4. 38499

Question ID : 264330151469

Option 1 ID : 264330593503

Option 2 ID : 264330593505

Option 3 ID : 264330593504

Option 4 ID : 264330593506

Status : Not Answered

Chosen Option : --

Q.16 ପ୍ରଦତ୍ତ କ୍ରମରେ କ୍ରମିକ ଭାବେ ଶୂନ୍ୟସ୍ଥାନରେ ଛାପିତ ହେଲେ କ୍ରମଟିକୁ ସଂପୂର୍ଣ୍ଣ କରୁଥିବା ଅକ୍ଷରର ସମାହାର ଚୟନ କରନ୍ତୁ ।

NO_ N __ NO __ ON

- Ans
- 1. ONOON
 - 2. NONNN
 - 3. OONO
 - 4. NONON

Question ID : 264330151653
Option 1 ID : 264330594242
Option 2 ID : 264330594241
Option 3 ID : 264330594240
Option 4 ID : 264330594239
Status : Answered
Chosen Option : 2

Q.17 ପ୍ରଦତ୍ତ ଅନୁକ୍ରମରେ '?' ସ୍ଥାନରେ କ'ଣ ରହିବା ଆବଶ୍ୟକ?

4 19 79 319 1279 ?

- Ans
- 1. 4913
 - 2. 5119
 - 3. 5299
 - 4. 4875

Question ID : 264330151459
Option 1 ID : 264330593464
Option 2 ID : 264330593465
Option 3 ID : 264330593466
Option 4 ID : 264330593463
Status : Not Answered
Chosen Option : --

Q.18 ପ୍ରଦତ୍ତ ବିବୃତି ଓ ନିଷ୍ପତ୍ତି ଧ୍ୟାନ ସହକାରେ ପଢନ୍ତୁ । ସାଧାରଣ ଭାବେ ଜଣା ଥିବା ତଥ୍ୟ ଠାରୁ ସେଗୁଡ଼ିକ ଭିନ୍ନ ବୋଲି ଜଣା ପଡୁଥିଲେ ମଧ୍ୟ ଆପଣଙ୍କୁ ପ୍ରଦତ୍ତ ବିବୃତିଗୁଡ଼ିକୁ ସତ୍ୟ ବୋଲି ମାନିବାକୁ ହେବ । ପ୍ରଦତ୍ତ ବିବୃତିଗୁଡ଼ିକୁ ଯୁକ୍ତିଯୁକ୍ତ ଭାବେ ଅନୁସରଣ କରୁଥିବା ନିଷ୍ପତ୍ତି ବା ନିଷ୍ପତ୍ତିଗୁଡ଼ିକୁ ଆପଣଙ୍କୁ ଚୟନ କରିବାକୁ ହେବ ।

ବିବୃତି: ସମସ୍ତ ଫୋନ, ଫୁଲ ଅଟେ । କିଛି ଫୁଲ, ଥଳି ଅଟେ । ସମସ୍ତ ଥଳି, ଓଜନିଆ ଅଟେ ।

ନିଷ୍ପତ୍ତି I: କିଛି ଫୋନ, ଫୁଲ ଅଟେ ।

ନିଷ୍ପତ୍ତି II: ସମସ୍ତ ଫୁଲ, ଥଳି ଅଟେ ।

Ans

1. ଉଭୟ ନିଷ୍ପତ୍ତି (I) ଓ (II) ଅନୁସରଣ କରେ ।

2. ନିଷ୍ପତ୍ତି (I) କିମ୍ବା (II) ଅନୁସରଣ କରେ ନାହିଁ ।

3. କେବଳ ନିଷ୍ପତ୍ତି (I) ଅନୁସରଣ କରେ ।

4. କେବଳ ନିଷ୍ପତ୍ତି (II) ଅନୁସରଣ କରେ ।

Question ID : 264330155907

Option 1 ID : 264330611034

Option 2 ID : 264330611033

Option 3 ID : 264330611031

Option 4 ID : 264330611032

Status : Answered

Chosen Option : 2

Q.19 ନିମ୍ନଲିଖିତ ସଂଖ୍ୟା-ଯୋଡ଼ିରେ ପ୍ରଥମ ସଂଖ୍ୟାରେ ନିର୍ଦ୍ଦିଷ୍ଟ ଗାଣିତିକ ପ୍ରକ୍ରିୟା ପ୍ରୟୋଗ କରି ଦ୍ୱିତୀୟ ସଂଖ୍ୟା ପ୍ରାପ୍ତ କରାଯାଏ । ସେହି ସେଟ୍ ଚୟନ କରନ୍ତୁ ଯେଉଁଥିରେ ସଂଖ୍ୟାଗୁଡ଼ିକ ସେଟ୍ ଗୁଡ଼ିକର ସଂଖ୍ୟା ଗୁଡ଼ିକ ପରି ସମାନ ଭାବରେ ସମ୍ବନ୍ଧିତ ଅଟେ ।

(ଧ୍ୟାନ ଦିଅନ୍ତୁ: ସଂଖ୍ୟାଗୁଡ଼ିକୁ ଡାହାଣ ଗଠନକାରୀ ଅଙ୍କଗୁଡ଼ିକରେ ବିଭକ୍ତ ନକରି ସାମଗ୍ରିକ ସଂଖ୍ୟା ଉପରେ ଗାଣିତିକ କାର୍ଯ୍ୟଗୁଡ଼ିକ କରିବା ଆବଶ୍ୟକ । ଉଦାହରଣ ସ୍ୱରୂପ - ମିଶାଣ/ଫେଡ଼ାଣ/ଗୁଣନ ଇତ୍ୟାଦି ଭଳି ଗାଣିତିକ କାର୍ଯ୍ୟଗୁଡ଼ିକ 13 ଉପରେ କରାଯାଇପାରିବ । 13 କୁ 1 ଓ 3 ରେ ଭାଜି ସେଗୁଡ଼ିକ ଉପରେ ଗାଣିତିକ କାର୍ଯ୍ୟ କରିବା ପାଇଁ ଅନୁମତି ନାହିଁ)

16 : 41

11 : 26

Ans

1. 5 : 15

2. 21 : 84

3. 7 : 28

4. 12 : 29

Question ID : 264330154650

Option 1 ID : 264330606066

Option 2 ID : 264330606063

Option 3 ID : 264330606065

Option 4 ID : 264330606064

Status : Not Answered

Chosen Option : --

Q.20 ଯଦି '+' ଓ '-'କୁ ପରସ୍ପର ମଧ୍ୟରେ ଏବଂ 'x' ଓ '='କୁ ପରସ୍ପର ମଧ୍ୟରେ ଅଦଳବଦଳ କରାଯାଏ, ତେବେ ନିମ୍ନ ସମୀକରଣରେ ଥିବା ପ୍ରଶ୍ନ ଚିହ୍ନ (?) ଛାନରେ କ'ଣ ରହିବ?

$$23 \div 2 + 41 - 84 \times 14 = ?$$

- Ans
- 1. 21
 - 2. 31
 - 3. 1
 - 4. 11

Question ID : 264330155668

Option 1 ID : 264330610075

Option 2 ID : 264330610077

Option 3 ID : 264330610078

Option 4 ID : 264330610076

Status : Not Answered

Chosen Option : --

Section : General Awareness

Q.1 ଏପ୍ରିଲ 2023 ରେ, ସାଫ୍ଟିକସାଇରାଜ୍ ରାଜ୍ୟରେ ଓ ତିରାଗ ଶେଢ଼ି ବ୍ୟାତନିଶ୍ଚନ୍ ଏସିଆ ଚାମିଆନସିୟ ଇତିହାସରେ ସ୍ୱର୍ଣ୍ଣ ପଦକ ଜିତିବାର ପ୍ରଥମ ଭାରତୀୟ ପୁରୁଷ ଡବଲସ୍ ଯୋଡ଼ି ହୋଇଥିଲେ । ଏହି ଚାମିଆନସିୟ କେଉଁଠାରେ ଅନୁଷ୍ଠିତ ହୋଇଥିଲା?

- Ans
- 1. କାଚାର
 - 2. ସିଙ୍ଗାପୁର
 - 3. ତୁବାଇ
 - 4. ମାଲେସିଆ

Question ID : 264330161153

Option 1 ID : 264330631943

Option 2 ID : 264330631946

Option 3 ID : 264330631944

Option 4 ID : 264330631945

Status : Answered

Chosen Option : 3

Q.2 ସ୍ୱେଲଡିଂ (welding) ପାଇଁ ବହୁଳ ଭାବରେ ବ୍ୟବହୃତ ଫିକା, ଇଥେରାଲ୍ ଗନ୍ଧ (ethereal odour) ସହିତ ଏକ ବର୍ଣ୍ଣହୀନ ଗ୍ୟାସ୍ ଏସିଟିଲିନ (acetylene) ର ବ୍ୟବସ୍ଥିତ ନାମ (systematic name) କ'ଣ?

- Ans
- 1. ଇଥାନୋଇକ୍ ଆନହାଇଡ୍ରାଇଡ୍ (Ethanoic anhydride)
 - 2. ଇଥାଇନ୍ (Ethyne)
 - 3. ଆଜୋଇଥେନ୍ (Azoethane)
 - 4. ଇଥାଇଲ୍ ଏସିଟେଟ୍ (Ethyl acetate)

Question ID : 264330161050

Option 1 ID : 264330631533

Option 2 ID : 264330631532

Option 3 ID : 264330631534

Option 4 ID : 264330631531

Status : Not Answered

Chosen Option : --

Q.3 ଶ୍ରୀ ନାରାୟଣ ଧର୍ମ ପରିପାଳନ ଯୋଗ୍ୟ କେଉଁଠାରେ ପ୍ରତିଷ୍ଠିତ ହୋଇଥିଲା?

- Ans
- 1. ତାମିଲନାଡୁ
 - 2. କର୍ଣ୍ଣାଟକ
 - 3. କେରଳ
 - 4. ତେଲଙ୍ଗାନା

Question ID : 264330160890
Option 1 ID : 264330630892
Option 2 ID : 264330630894
Option 3 ID : 264330630891
Option 4 ID : 264330630893
Status : Answered
Chosen Option : 2

Q.4 ଭାରତୀୟ ସମ୍ବିଧାନର କେଉଁ ଧାରା କେନ୍ଦ୍ର ଏବଂ ଏହାର ଅଞ୍ଚଳ ସହିତ ସମ୍ବନ୍ଧିତ?

- Ans
- 1. ଧାରା 36-51
 - 2. ଧାରା 1-4
 - 3. ଧାରା 5-11
 - 4. ଧାରା 12-35

Question ID : 264330159894
Option 1 ID : 264330626926
Option 2 ID : 264330626923
Option 3 ID : 264330626924
Option 4 ID : 264330626925
Status : Answered
Chosen Option : 1

Q.5 'ଦି ଗ୍ରେଟ୍ ଇଣ୍ଡିଆନ୍ ନୋଭେଲ୍' (The Great Indian Novel) _____ କ ଦ୍ଵାରା ଲିଖିତ ଏକ ବ୍ୟଙ୍ଗାତ୍ମକ ଉପନ୍ୟାସ ଅଟେ ।

- Ans
- 1. ସୂର୍ଯ୍ୟକାନ୍ତ ତ୍ରିପାଠୀ
 - 2. ଶଶି ଅରୁର
 - 3. ମୁନସୀ ପ୍ରେମଚନ୍ଦ୍ର
 - 4. କେ ଆର ନାରାୟଣ

Question ID : 264330155496
Option 1 ID : 264330609387
Option 2 ID : 264330609390
Option 3 ID : 264330609389
Option 4 ID : 264330609388
Status : Not Answered
Chosen Option : --

Q.6 ଭାରତର ନିମ୍ନଲିଖିତ ଉପଦ୍ରାପୀୟ ନଦୀ ମଧ୍ୟରୁ କେଉଁଟି ପଶ୍ଚିମକୁ ପ୍ରବାହିତ ହୋଇଥାଏ?

- Ans 1. ନର୍ମଦା
 2. ଗୋଦାବରୀ
 3. କୃଷ୍ଣା
 4. କାବେରୀ

Question ID : 264330161496
Option 1 ID : 264330633314
Option 2 ID : 264330633311
Option 3 ID : 264330633313
Option 4 ID : 264330633312
Status : Answered
Chosen Option : 2

Q.7 ଭାରତର ଜାତୀୟ ପତାକାରେ, 'ସମାନ ଅନୁପାତରେ ଭୂସମାନ୍ତର ଭାବେ ନାରଙ୍ଗି, ଧଳା ଓ ଗାଢ଼ ସବୁଜ ରଙ୍ଗ ଥିବା ତ୍ରିରଙ୍ଗା' ପାଇଁ କିଏ ପ୍ରସ୍ତାବ ଦେଇଥିଲେ?

- Ans 1. ଡ. ରାଜେନ୍ଦ୍ର ପ୍ରସାଦ
 2. ଜବାହାରଲାଲ ନେହେରୁ
 3. ସର୍ଦ୍ଦାର ବଲ୍ଲଭଭାଇ ପଟେଲ
 4. ମହାତ୍ମା ଗାନ୍ଧୀ

Question ID : 264330161747
Option 1 ID : 264330634318
Option 2 ID : 264330634316
Option 3 ID : 264330634317
Option 4 ID : 264330634315
Status : Answered
Chosen Option : 2

Q.8 ଭାରତରେ, 'ଅଉସ୍' (Aus), 'ଅମନ୍' (Aman) ଓ 'ବୋରୋ' (Boro) ଶବ୍ଦଗୁଡ଼ିକ ନିମ୍ନଲିଖିତ କେଉଁ ଫସଲ ସହିତ ଜଡ଼ିତ?

- Ans 1. ଧାନ
 2. ଗହମ
 3. ଆଖୁ
 4. ଚଣା

Question ID : 264330161510
Option 1 ID : 264330633368
Option 2 ID : 264330633367
Option 3 ID : 264330633369
Option 4 ID : 264330633370
Status : Not Answered
Chosen Option : --

Q.9 68ତମ ଫିଲ୍ମଫେୟାର ପୁରସ୍କାର 2023 (68th Filmfare Awards 2023) ରେ କିଏ ଶ୍ରେଷ୍ଠ ପ୍ରଚ୍ଛଦପଟ ଗାୟକ (ପୁରୁଷ) ପୁରସ୍କାର (Best Playback Singer (Male) Award) ଜିତିଥିଲେ?

- Ans
- ✓ 1. ଅରିଜିତ ସିଂ
 - ✗ 2. ମୋହିତ ଚୌହାନ
 - ✗ 3. ଶାନ୍
 - ✗ 4. ଅମିତ ମିଶ୍ର

Question ID : 264330155516
Option 1 ID : 264330609468
Option 2 ID : 264330609467
Option 3 ID : 264330609469
Option 4 ID : 264330609470
Status : Answered
Chosen Option : 1

Q.10 ମାଲକୋ ଫାଇନାନ୍ସ ପ୍ରତିଷ୍ଠାନଗୁଡ଼ିକର ତଦାରଖ ଓ ନିୟନ୍ତ୍ରଣ ପାଇଁ ଭାରତର କେଉଁ ନିୟାମକ ସଂସ୍ଥା ଦାୟୀ ଅଟେ?

- Ans
- ✗ 1. ଭାରତର କ୍ଷୁଦ୍ର ଶିଳ୍ପ ବିକାଶ ବ୍ୟାଙ୍କ (SIDBI)
 - ✓ 2. ଭାରତୀୟ ରିଜର୍ଭ ବ୍ୟାଙ୍କ (RBI)
 - ✗ 3. ଜାତୀୟ କୃଷି ଓ ଗ୍ରାମ୍ୟ ଉନ୍ନୟନ ବ୍ୟାଙ୍କ (NABARD)
 - ✗ 4. ସିକ୍ୟୁରିଟି ଆଣ୍ଡ ଏକ୍ସଚେଞ୍ଜ ବୋର୍ଡ ଅଫ୍ ଇଣ୍ଡିଆ (SEBI)

Question ID : 264330157285
Option 1 ID : 264330616505
Option 2 ID : 264330616503
Option 3 ID : 264330616506
Option 4 ID : 264330616504
Status : Answered
Chosen Option : 4

Q.11 ନିମ୍ନଲିଖିତରୁ ଉପନ୍ୟାସ ଓ ଏହାର ଲେଖକଙ୍କ ସଠିକ ଯୋଡ଼ିକୁ ଚିହ୍ନଟ କର ।

- Ans
- ✗ 1. ଦି ହ୍ୱାଇଟ ଟାଇଗର - କିରଣ ଦେଶାଇ
 - ✓ 2. ସେଭେନ ସମରସ୍ - ମୁକ୍ତ ରାଜ ଆନନ୍ଦ
 - ✗ 3. ଏ ସୁଇଚେବଲ୍ ବଏ- ଅମିତାଭ ଘୋଷ
 - ✗ 4. ଦି ଇନହେରିଟାନସ୍ ଅଫ୍ ଲସ୍ - ଅରବିନ୍ଦ ଆଡିଗା

Question ID : 264330155501
Option 1 ID : 264330609410
Option 2 ID : 264330609409
Option 3 ID : 264330609407
Option 4 ID : 264330609408
Status : Not Answered
Chosen Option : --

Q.12 ରାଜ୍ୟରେ ଅତି କମରେ 2,00,000 ନୂତନ ନିଯୁକ୍ତି ପୁଯୋଗ ସୃଷ୍ଟି କରିବା ଉଦ୍ଦେଶ୍ୟରେ ନିମ୍ନଲିଖିତ ମଧ୍ୟରୁ କେଉଁ ରାଜ୍ୟରେ ଏକ ଉତ୍ସର୍ଗୀକୃତ ସେମିକଣ୍ଡକ୍ଟର ନୀତି ବା dedicated Semiconductor Policy 2022-27 ଆରମ୍ଭ କରାଯାଇଛି?

- Ans
- 1. କେରଳ
 - 2. ମହାରାଷ୍ଟ୍ର
 - 3. ଗୁଜୁରାଟ
 - 4. ଆନ୍ଧ୍ର ପ୍ରଦେଶ

Question ID : 264330161409
Option 1 ID : 264330632966
Option 2 ID : 264330632963
Option 3 ID : 264330632964
Option 4 ID : 264330632965
Status : Answered
Chosen Option : 3

Q.13 ନିମ୍ନଲିଖିତ ମଧ୍ୟରୁ କେଉଁଟି କେନ୍ଦ୍ର ସରକାରଙ୍କ ବ୍ୟବସ୍ଥାପକ ଅଙ୍ଗ (legislative organ) ଅଟେ?

- Ans
- 1. କ୍ୟାବିନେଟ
 - 2. କାର୍ଯ୍ୟନିର୍ବାହୀ
 - 3. ସଂସଦ
 - 4. ସର୍ବୋଚ୍ଚ ନ୍ୟାୟାଳୟ

Question ID : 264330159920
Option 1 ID : 264330627030
Option 2 ID : 264330627027
Option 3 ID : 264330627028
Option 4 ID : 264330627029
Status : Answered
Chosen Option : 1

Q.14 ନିମ୍ନଲିଖିତ ଫସଲ ମଧ୍ୟରୁ କେଉଁଟି କୃଷ୍ଣ ମୃତ୍ତିକା (Black Soil) ପାଇଁ ଅଧିକ ଉପଯୁକ୍ତ ଅଟେ?

- Ans
- 1. ମକା
 - 2. ସୋୟାବିନ୍
 - 3. ବାଲି
 - 4. କପା

Question ID : 264330161316
Option 1 ID : 264330632592
Option 2 ID : 264330632591
Option 3 ID : 264330632593
Option 4 ID : 264330632594
Status : Not Answered
Chosen Option : --

Q.15 ଦୁତ ସହରୀକରଣ ଯୋଗୁଁ ମାନବ ଜୀବନଶୈଳୀରେ ଘୋର ପରିବର୍ତ୍ତନ ଆସିଛି । ଏଭଳି ସ୍ଥିତିରେ ମେଦବହୁଳତା ଏକ ପ୍ରମୁଖ ସ୍ୱାସ୍ଥ୍ୟ ସମସ୍ୟା ଅଟେ । ନିମ୍ନଲିଖିତ ମଧ୍ୟରୁ କେଉଁଟି ମେଦବହୁଳତାର ଏକ କାରଣ ଅଟେ?

- Ans
- 1. ପ୍ରୋଟିନ୍ ର ଅଭାବ
 - 2. ଅତ୍ୟଧିକ ପାଣି ପିଇବା
 - 3. ଅଧିକ କ୍ୟାଲୋରୀ ଯୁକ୍ତ ଖାଦ୍ୟ ଅତିମାତ୍ରାରେ ଖାଇବା
 - 4. ନିୟମିତ ଖାଦ୍ୟରେ ଭିତାମିନର ଅଭାବ

Question ID : 264330156610
Option 1 ID : 264330613830
Option 2 ID : 264330613828
Option 3 ID : 264330613827
Option 4 ID : 264330613829
Status : Answered
Chosen Option : 4

Q.16 15 ଅଗଷ୍ଟ 1947 ରେ ଔପନିବେଶିକ ଶାସନରୁ ଭାରତ ସ୍ୱାଧୀନ ହେବା ସମୟରେ ନିମ୍ନଲିଖିତ ମଧ୍ୟରୁ କିଏ ଭାରତର ଭାଇସରାୟ ଥିଲେ?

- Ans
- 1. ଲର୍ଡ ଲିନଲିଅଗୋ
 - 2. ଲର୍ଡ ୱାଭେଲ୍
 - 3. ଲର୍ଡ ମାଉଣ୍ଟବ୍ୟାଟେନ୍
 - 4. ଲର୍ଡ ୱିଲିଙ୍ଗ୍‌ଟନ୍

Question ID : 264330160824
Option 1 ID : 264330630629
Option 2 ID : 264330630628
Option 3 ID : 264330630627
Option 4 ID : 264330630630
Status : Not Answered
Chosen Option : --

Q.17 ସେହି ପ୍ରଖ୍ୟାତ କଥକ ନୃତ୍ୟଶିଳ୍ପୀ କିଏ, ଯିଏ 'ପଣ୍ଡିତ ବିରଜୁ ମହାରାଜ'ଙ୍କର ଶିଷ୍ୟ/ଶିଷ୍ୟା ଥିଲେ ତଥା ଭାରତୀୟ ଅତିବ୍ ଏବଂ ଆକାଉଣ୍ଟସ୍ ସେବା ର ଜଣେ ଅଧିକାରୀ ଭାବରେ କାର୍ଯ୍ୟ କରିଥିଲେ?

- Ans
- 1. ଗୁରୁ ବିପିନ ସିଂ
 - 2. ଶୋଭନା ନାରାୟଣ
 - 3. ସୋନାଲ ମାନସିଂ
 - 4. ପଦ୍ମ ସୁବ୍ରମଣ୍ୟମ

Question ID : 264330159063
Option 1 ID : 264330623611
Option 2 ID : 264330623612
Option 3 ID : 264330623613
Option 4 ID : 264330623614
Status : Not Answered
Chosen Option : --

Q.18 ଭାରତର ପ୍ରଥମ ପ୍ରଧାନମନ୍ତ୍ରୀ ପଣ୍ଡିତ ଜବାହରଲାଲ ନେହେରୁଙ୍କ ଆଗରେ 'ୟେ ଷତନ କେ ଲୋଗୋଂ, ଜରା ଆଖି ମେଁ ଭରଲୋ ପାନି...' ଗୀତ ଗାଇଥିବା ଭାରତୀୟ କଣ୍ଠଶିଳ୍ପୀ କୁ ଚିହ୍ନଟ କର ।

- Ans
- 1. ମହମ୍ମଦ ରଫି
 - 2. ଲତା ମଙ୍ଗେଶକର
 - 3. ଆଶା ଭୋସଲେ
 - 4. ମୁକେଶ

Question ID : 264330160980
Option 1 ID : 264330631254
Option 2 ID : 264330631251
Option 3 ID : 264330631252
Option 4 ID : 264330631253
Status : Answered
Chosen Option : 2

Q.19 ନିମ୍ନଲିଖିତ ମଧ୍ୟରୁ କେଉଁ ରାଜ୍ୟରେ ପ୍ରଥମ ଜନଜାତୀୟ ଖେଳ ମହୋତ୍ସବ ଅନୁଷ୍ଠିତ ହୋଇଥିଲା?

- Ans
- 1. ଓଡ଼ିଶା
 - 2. ଝାଡ଼ଖଣ୍ଡ
 - 3. ଛତିଶଗଡ଼
 - 4. ଆନ୍ଧ୍ର ପ୍ରଦେଶ

Question ID : 264330161127
Option 1 ID : 264330631839
Option 2 ID : 264330631840
Option 3 ID : 264330631841
Option 4 ID : 264330631842
Status : Answered
Chosen Option : 1

Q.20 ନିମ୍ନଲିଖିତ ମଧ୍ୟରୁ କେଉଁ ନୂତନ ଶୈଳୀରେ ଡାକର ଅବଦାନ ପାଇଁ ଶମା ଭାଟ୍ଟେଙ୍କୁ ସଙ୍ଗୀତ ନାଟକ ଏକାଡେମୀ ପୁରସ୍କାର-2021 (ଫେବୃଆରୀ 2023 ରେ ପ୍ରଦାନ କରାଯାଇଥିଲା) ମିଳିଥିଲା?

- Ans
- 1. ମୋହିନୀୟାତମ
 - 2. ମଣିପୁରୀ
 - 3. କଥକ
 - 4. ଭାରତନାଟ୍ୟମ୍

Question ID : 264330155518
Option 1 ID : 264330609478
Option 2 ID : 264330609477
Option 3 ID : 264330609476
Option 4 ID : 264330609475
Status : Not Answered
Chosen Option : --

Q.21 2023 ମସିହାରେ _____ କ୍ଷେତ୍ରରେ ତାଙ୍କର ବିଶିଷ୍ଟ ସେବା ପାଇଁ ଗୁରୁତରତ୍ୱ ସିଂଙ୍କୁ, ଭାରତର ରାଷ୍ଟ୍ରପତି ପଦ୍ମଶ୍ରୀ ପୁରସ୍କାର ପ୍ରଦାନ କରିଥିଲେ ।

- Ans 1. କ୍ରିକେଟ୍
 2. ବ୍ୟାଡମିଣ୍ଟନ୍
 3. ଟେନିସ୍
 4. ଫୁଟବଲ୍

Question ID : 264330161443
Option 1 ID : 264330633099
Option 2 ID : 264330633101
Option 3 ID : 264330633102
Option 4 ID : 264330633100
Status : Answered
Chosen Option : 1

Q.22 ଭାରତନାଟ୍ୟମର ଶାସ୍ତ୍ରୀୟ ନୃତ୍ୟ ଶୈଳୀ _____ ରାଜ୍ୟର ଅଟେ ।

- Ans 1. କର୍ଣ୍ଣାଟକ
 2. ଆସାମ
 3. ରାଜସ୍ଥାନ
 4. ତାମିଲନାଡୁ

Question ID : 264330159049
Option 1 ID : 264330623555
Option 2 ID : 264330623557
Option 3 ID : 264330623558
Option 4 ID : 264330623556
Status : Answered
Chosen Option : 1

Q.23 ଭାରତର ଜନଗଣନା 2011 ଅନୁଯାୟୀ, ମହିଳା ସାକ୍ଷରତା ହାର _____ ବୋଲି ରେକର୍ଡ କରାଯାଇଛି ।

- Ans 1. 65.46%
 2. 75.35%
 3. 55.84%
 4. 70.24%

Question ID : 264330161557
Option 1 ID : 264330633558
Option 2 ID : 264330633557
Option 3 ID : 264330633555
Option 4 ID : 264330633556
Status : Answered
Chosen Option : 1

Q.24 ନିମ୍ନଲିଖିତ ସିନ୍ଧୁ ଉପତ୍ୟକାର ସ୍ଥାନଗୁଡ଼ିକ ମଧ୍ୟରୁ କେଉଁଟି ବର୍ତ୍ତମାନ ପାକିସ୍ତାନରେ ଅବସ୍ଥିତ?

- Ans 1. ହରପ୍ପା
 2. କାଲିବାଙ୍ଗାନ୍
 3. ଆଲମଗିରପୁର
 4. ଲୋଥାଲ୍

Question ID : 264330162697
Option 1 ID : 264330638108
Option 2 ID : 264330638109
Option 3 ID : 264330638107
Option 4 ID : 264330638110
Status : Not Answered
Chosen Option : --

Q.25 ସଞ୍ଚୟ ଆକାଉଣ୍ଟ (savings account) ର ଉଦ୍ଦେଶ୍ୟ କ'ଣ?

- Ans 1. ଜମା ଉପରେ ସୁଧ ପାଇବା
 2. ବନ୍ଧକ ରଖି ପାଇବା
 3. ଅନଲାଇନରେ ବିଲ୍ ପଇଠ କରିବା
 4. ଦୈନନ୍ଦିନ କାରବାର କରିବା

Question ID : 264330157301
Option 1 ID : 264330616568
Option 2 ID : 264330616569
Option 3 ID : 264330616570
Option 4 ID : 264330616567
Status : Answered
Chosen Option : 1

Section : English Language and Comprehension

Q.1 Select the most appropriate meaning of the underlined segment in the given sentence.
After her husband passed away, Jane had to learn to bite the bullet and take care of the household on her own.

- Ans 1. Criticise someone harshly
 2. Accept a difficult situation bravely
 3. Create a difficult situation
 4. Run away from a difficult situation

Question ID : 264330152922
Option 1 ID : 264330599270
Option 2 ID : 264330599268
Option 3 ID : 264330599269
Option 4 ID : 264330599267
Status : Answered
Chosen Option : 4

Q.2 Select the most appropriate option to fill in the blank.
Augmented Reality (AR) continues to develop and become more _____ among a wide range of applications.

- Ans
- 1. idealistic
 - 2. rare
 - 3. pervasive
 - 4. amicable

Question ID : 264330151905
Option 1 ID : 264330595238
Option 2 ID : 264330595235
Option 3 ID : 264330595236
Option 4 ID : 264330595237
Status : Answered
Chosen Option : 3

Q.3 Select the INCORRECTLY spelt word.

- Ans
- 1. Pleasant
 - 2. Grammar
 - 3. Familiar
 - 4. Aweful

Question ID : 264330152828
Option 1 ID : 264330598906
Option 2 ID : 264330598905
Option 3 ID : 264330598903
Option 4 ID : 264330598904
Status : Answered
Chosen Option : 4

Q.4 Select the most appropriate option to fill in the blank.
All praised him when he soared in the business world, but the same people _____ him when he failed in business.

- Ans
- 1. dramatised
 - 2. criticised
 - 3. nourished
 - 4. supported

Question ID : 264330153576
Option 1 ID : 264330601801
Option 2 ID : 264330601800
Option 3 ID : 264330601799
Option 4 ID : 264330601802
Status : Not Answered
Chosen Option : --

Q.5 Select the word which means the same as the group of words given.
That which can't be read.

- Ans
- 1. Incurable
 - 2. Inaccessible
 - 3. Irrelevant
 - 4. Illegible

Question ID : 264330152570
Option 1 ID : 264330597884
Option 2 ID : 264330597883
Option 3 ID : 264330597886
Option 4 ID : 264330597885
Status : Not Answered
Chosen Option : --

Q.6 Select the most appropriate option to fill in the blank.
A/An _____ fellow cannot become an ideal teacher.

- Ans
- 1. bright
 - 2. idle
 - 3. intelligent
 - 4. honest

Question ID : 264330153355
Option 1 ID : 264330600974
Option 2 ID : 264330600971
Option 3 ID : 264330600972
Option 4 ID : 264330600973
Status : Answered
Chosen Option : 3

Q.7 The following sentence has been divided into four parts. Identify the part that contains an error.

(A) Taylor, Richard, and / (B) Francis plays for / (C) the state / (D) basketball team.

- Ans
- 1. A
 - 2. D
 - 3. C
 - 4. B

Question ID : 264330152616
Option 1 ID : 264330598070
Option 2 ID : 264330598067
Option 3 ID : 264330598068
Option 4 ID : 264330598069
Status : Answered
Chosen Option : 3

Q.8 Parts of the following sentence have been given as options. Select the option that contains an error.

The platinum is a precious metal.

- Ans
- 1. is
 - 2. a
 - 3. precious metal
 - 4. The platinum

Question ID : 264330155201
Option 1 ID : 264330608264
Option 2 ID : 264330608265
Option 3 ID : 264330608266
Option 4 ID : 264330608263
Status : Answered
Chosen Option : 4

Q.9 Select the most appropriate meaning of the underlined idiom in the given sentence.

A man of character, he stuck to his guns even in the most difficult situations.

- Ans
- 1. To find a treasure
 - 2. To behave disrespectfully
 - 3. To stand firm against all difficulties and challenges
 - 4. To do things that would please people

Question ID : 264330152880
Option 1 ID : 264330599112
Option 2 ID : 264330599111
Option 3 ID : 264330599114
Option 4 ID : 264330599113
Status : Answered
Chosen Option : 1

Q.10 Select the most appropriate idiom to fill in the blank.
Please tell me about the meeting _____.

- Ans
- 1. in a huff
 - 2. in a stew
 - 3. in a nutshell
 - 4. in a spin

Question ID : 264330152597
Option 1 ID : 264330597994
Option 2 ID : 264330597993
Option 3 ID : 264330597992
Option 4 ID : 264330597991
Status : Not Answered
Chosen Option : --

Q.11 Select the most appropriate option that can substitute the underlined segment in the given sentence.

I considered Geography as an easier subject.

- Ans 1. the easier
 2. an easiest
 3. an easy
 4. the easy

Question ID : 264330155423
Option 1 ID : 264330609101
Option 2 ID : 264330609102
Option 3 ID : 264330609099
Option 4 ID : 264330609100
Status : Answered
Chosen Option : 4

Q.12 Select the most appropriate ANTONYM of the given word.
Authentic

- Ans 1. Wise
 2. False
 3. Moderate
 4. Actual

Question ID : 264330152675
Option 1 ID : 264330598305
Option 2 ID : 264330598304
Option 3 ID : 264330598306
Option 4 ID : 264330598303
Status : Not Answered
Chosen Option : --

Q.13 Select the INCORRECTLY spelt word.

- Ans 1. Territory
 2. Acknowlege
 3. Excellence
 4. Business

Question ID : 264330152688
Option 1 ID : 264330598358
Option 2 ID : 264330598356
Option 3 ID : 264330598357
Option 4 ID : 264330598355
Status : Answered
Chosen Option : 2

Q.14 Select the most appropriate word to fill in the blank.
Ministry of education has announced that students can _____ the Board Examinations twice.

- Ans 1. give
 2. take
 3. get
 4. participate

Question ID : 264330153506
Option 1 ID : 264330601536
Option 2 ID : 264330601537
Option 3 ID : 264330601535
Option 4 ID : 264330601538
Status : Answered
Chosen Option : 4

Q.15 The following sentence has been divided into parts. One of them may contain an error.
Select the part that contains the error from the given options. If you don't find any error, mark 'No error' as your answer.
As they driven through the dark, twisting lane / down which they had walked earlier, Lucius heard / the whistling of the night air in his ears.

- Ans 1. down which they had walked earlier, Lucius heard
 2. No error
 3. the whistling of the night air in his ears.
 4. As they driven through the dark, twisting lane

Question ID : 264330153212
Option 1 ID : 264330600409
Option 2 ID : 264330600410
Option 3 ID : 264330600407
Option 4 ID : 264330600408
Status : Not Answered
Chosen Option : --

Q.16 Select the most appropriate meaning of the given idiom.
Pay an arm and a leg for something

- Ans 1. Be devoted to unwanted things
 2. Pay a lot of attention to an incident
 3. Give a lot of love and care to someone
 4. Pay a lot of money for something

Question ID : 264330153438
Option 1 ID : 264330601277
Option 2 ID : 264330601276
Option 3 ID : 264330601278
Option 4 ID : 264330601275
Status : Answered
Chosen Option : 4

Q.17 Select the **INCORRECTLY** spelt word in the given sentence.
The handloom shop at the Ring Road has many kinds of bags, such as paper, leather, cloth and canvvas.

- Ans 1. Paper
 2. Cannvas
 3. Leather
 4. Cloth

Question ID : 264330153302
Option 1 ID : 264330600763
Option 2 ID : 264330600766
Option 3 ID : 264330600764
Option 4 ID : 264330600765
Status : Answered
Chosen Option : 2

Q.18 Select the option that can be used as a one-word substitute for the given phrase.
One who lends money to others at a very high rate of interest.

- Ans 1. Numismatist
 2. Curator
 3. Usurer
 4. Bankrupt

Question ID : 264330152674
Option 1 ID : 264330598300
Option 2 ID : 264330598301
Option 3 ID : 264330598299
Option 4 ID : 264330598302
Status : Not Answered
Chosen Option : --

Q.19 Select the most appropriate synonym of the given word.
Trivial

- Ans 1. Minor
 2. Formal
 3. Decisive
 4. Fatal

Question ID : 264330152683
Option 1 ID : 264330598338
Option 2 ID : 264330598336
Option 3 ID : 264330598337
Option 4 ID : 264330598335
Status : Not Answered
Chosen Option : --

Q.20 Parts of the following sentence have been underlined and given as options. Select the option that contains an error.

What most off us want most is to move forward.

- Ans
- ✓ 1. most off
 - ✗ 2. is to
 - ✗ 3. move forward
 - ✗ 4. want most

Question ID : 264330153209

Option 1 ID : 264330600395

Option 2 ID : 264330600397

Option 3 ID : 264330600398

Option 4 ID : 264330600396

Status : Answered

Chosen Option : 4

Comprehension:

In the following passage some words have been deleted. Read the passage carefully and select the most appropriate option to fill in each blank.

The most common hazard in forests is forest fire. Forest fires are as old as the forests themselves. They pose a 1. _____ not only to the forest wealth but also to the entire regime to fauna and flora seriously disturbing the biodiversity and the ecology and environment of a region. During summer, when there is no rain for months, the forests 2. _____ littered with dry senescent leaves and twinges, which could burst into flames ignited by the slightest spark. The Himalayan forests, particularly, Garhwal Himalayas have been burning 3. _____ during the last few summers, with colossal loss of vegetation cover of that region. The youngest mountain ranges of the Himalayas are the most 4. _____ stretches of the world susceptible to forest fires. The forests of the Western are more 5. _____ vulnerable to forest fires as compared to those in the Eastern Himalayas. This is because forests of the Eastern Himalayas grow in high rain density.

SubQuestion No : 21

Q.21 Select the most appropriate option to fill in blank no.1.

- Ans
- ✗ 1. failure
 - ✗ 2. trend
 - ✗ 3. mercy
 - ✓ 4. threat

Question ID : 264330151933

Option 1 ID : 264330595343

Option 2 ID : 264330595346

Option 3 ID : 264330595344

Option 4 ID : 264330595345

Status : Answered

Chosen Option : 3

Comprehension:

In the following passage some words have been deleted. Read the passage carefully and select the most appropriate option to fill in each blank.

The most common hazard in forests is forest fire. Forest fires are as old as the forests themselves. They pose a 1._____ not only to the forest wealth but also to the entire regime to fauna and flora seriously disturbing the biodiversity and the ecology and environment of a region. During summer, when there is no rain for months, the forests 2._____ littered with dry senescent leaves and twinges, which could burst into flames ignited by the slightest spark. The Himalayan forests, particularly, Garhwal Himalayas have been burning 3._____ during the last few summers, with colossal loss of vegetation cover of that region. The youngest mountain ranges of the Himalayas are the most 4._____ stretches of the world susceptible to forest fires. The forests of the Western are more 5._____ vulnerable to forest fires as compared to those in the Eastern Himalayas. This is because forests of the Eastern Himalayas grow in high rain density.

SubQuestion No : 22

Q.22 Select the most appropriate option to fill in blank no.2.

- Ans
- 1. keep
 - 2. drive
 - 3. become
 - 4. build

Question ID : 264330151934

Option 1 ID : 264330595349

Option 2 ID : 264330595347

Option 3 ID : 264330595348

Option 4 ID : 264330595350

Status : Answered

Chosen Option : 4

Comprehension:

In the following passage some words have been deleted. Read the passage carefully and select the most appropriate option to fill in each blank.

The most common hazard in forests is forest fire. Forest fires are as old as the forests themselves. They pose a 1._____ not only to the forest wealth but also to the entire regime to fauna and flora seriously disturbing the biodiversity and the ecology and environment of a region. During summer, when there is no rain for months, the forests 2._____ littered with dry senescent leaves and twinges, which could burst into flames ignited by the slightest spark. The Himalayan forests, particularly, Garhwal Himalayas have been burning 3._____ during the last few summers, with colossal loss of vegetation cover of that region. The youngest mountain ranges of the Himalayas are the most 4._____ stretches of the world susceptible to forest fires. The forests of the Western are more 5._____ vulnerable to forest fires as compared to those in the Eastern Himalayas. This is because forests of the Eastern Himalayas grow in high rain density.

SubQuestion No : 23

Q.23 Select the most appropriate option to fill in blank no.3.

- Ans
- 1. badly
 - 2. enough
 - 3. regularly
 - 4. rarely

Question ID : 264330151935

Option 1 ID : 264330595353

Option 2 ID : 264330595352

Option 3 ID : 264330595351

Option 4 ID : 264330595354

Status : Answered

Chosen Option : 3

Comprehension:

In the following passage some words have been deleted. Read the passage carefully and select the most appropriate option to fill in each blank.

The most common hazard in forests is forest fire. Forest fires are as old as the forests themselves. They pose a 1._____ not only to the forest wealth but also to the entire regime to fauna and flora seriously disturbing the biodiversity and the ecology and environment of a region. During summer, when there is no rain for months, the forests 2._____ littered with dry senescent leaves and twinges, which could burst into flames ignited by the slightest spark. The Himalayan forests, particularly, Garhwal Himalayas have been burning 3._____ during the last few summers, with colossal loss of vegetation cover of that region. The youngest mountain ranges of the Himalayas are the most 4._____ stretches of the world susceptible to forest fires. The forests of the Western are more 5._____ vulnerable to forest fires as compared to those in the Eastern Himalayas. This is because forests of the Eastern Himalayas grow in high rain density.

SubQuestion No : 24

Q.24 Select the most appropriate option to fill in blank no.4.

- Ans 1. greasy
 2. vulnerable
 3. outrageous
 4. mysterious

Question ID : 264330151936

Option 1 ID : 264330595357

Option 2 ID : 264330595358

Option 3 ID : 264330595356

Option 4 ID : 264330595355

Status : Answered

Chosen Option : 4

Comprehension:

In the following passage some words have been deleted. Read the passage carefully and select the most appropriate option to fill in each blank.

The most common hazard in forests is forest fire. Forest fires are as old as the forests themselves. They pose a 1._____ not only to the forest wealth but also to the entire regime to fauna and flora seriously disturbing the biodiversity and the ecology and environment of a region. During summer, when there is no rain for months, the forests 2._____ littered with dry senescent leaves and twinges, which could burst into flames ignited by the slightest spark. The Himalayan forests, particularly, Garhwal Himalayas have been burning 3._____ during the last few summers, with colossal loss of vegetation cover of that region. The youngest mountain ranges of the Himalayas are the most 4._____ stretches of the world susceptible to forest fires. The forests of the Western are more 5._____ vulnerable to forest fires as compared to those in the Eastern Himalayas. This is because forests of the Eastern Himalayas grow in high rain density.

SubQuestion No : 25

Q.25 Select the most appropriate option to fill in blank no.5.

- Ans 1. deeply
 2. frequently
 3. closely
 4. barely

Question ID : 264330151937

Option 1 ID : 264330595361

Option 2 ID : 264330595360

Option 3 ID : 264330595362

Option 4 ID : 264330595359

Status : Answered

Chosen Option : 3